




小数のわり算 10

● 商が小数第二位の真小数

15

目指せ80点!




名まえ

・ 次の計算をしなさい。(各20点)


① $0.54 \div 6$



② $0.68 \div 17$






③ $4.72 \div 8$



④ $9.24 \div 7$



⑤ $0.24 \div 4$





小数のわり算 10

● 商が小数第二位の真小数

15

目指せ80点!



名まえ

・ 次の計算をしなさい。(各20点)

① $0.54 \div 6$

	0	.	0	9	
6)	0	.	5	4
			5	4	
				0	

② $0.68 \div 17$

		0	.	0	4	
1	7)	0	.	6	8
			6	8		
					0	

③ $4.72 \div 8$

	0	.	5	9	
8)	4	.	7	2
	4	0			
		7	2		
		7	2		
				0	

④ $9.24 \div 7$

	1	.	3	2	
7)	9	.	2	4
	7				
		2	2		
		2	1		
			1	4	
			1	4	
				0	

⑤ $0.24 \div 4$

	0	.	0	6	
4)	0	.	2	4
			2	4	
				0	

