

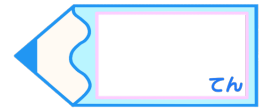


# 小数のわり算7

● 商が真小数になる  
帯小数÷2桁の整数

15

目指せ80点!




名まえ

・ 次の計算をしなさい。(各20点)

①  $15.4 \div 77$



②  $72.9 \div 81$






③  $78.4 \div 14$



④  $46.8 \div 13$



⑤  $29.2 \div 73$



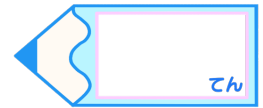


# 小数のわり算7

● 商が真小数になる  
帯小数÷2桁の整数

# 15

目指せ80点!



名まえ

・ 次の計算をしなさい。(各20点)

①  $15.4 \div 77$

			0.2
7	7	)	15.4
			154
			0

②  $72.9 \div 81$

			0.9
8	1	)	72.9
			729
			0

③  $78.4 \div 14$

			5.6
1	4	)	78.4
			70
			84
			84
			0

④  $46.8 \div 13$

			3.6
1	3	)	46.8
			39
			78
			78
			0

⑤  $29.2 \div 73$

			0.4
7	3	)	29.2
			292
			0

