




小数のわり算 7

● 商が真小数になる
帯小数 ÷ 2けたの整数

15

目指せ80点!



名まえ _____

・ 次の計算をしなさい。(各20点)

①

7	7)	1	5.4



②

8	1)	7	2.9

③ $78.4 \div 14$

④ $46.8 \div 13$

⑤ $29.2 \div 73$





小数のわり算 7

● 商が真小数になる
帯小数 ÷ 2けたの整数

15

目指せ80点!



名まえ _____

・ 次の計算をしなさい。(各20点)

①

			0.2
7	7)	15.4
			154
			0

②

			0.9
8	1)	72.9
			729
			0

③ $78.4 \div 14$

			5.6
1	4)	78.4
			70
			84
			84
			0

④ $46.8 \div 13$

			3.6
1	3)	46.8
			39
			78
			78
			0

⑤ $29.2 \div 73$

			0.4
7	3)	29.2
			292
			0

