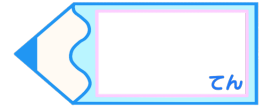


小数のわり算23

● 商を概数で求める
(四捨五入)

15

目指せ80点!



名まえ

・ 次のわり算で、商は四捨五入して、上から2けたのがい数で求めましょう。
(各20点)


① $50.9 \div 7$

② $27.7 \div 4$

③ $10.7 \div 3$

④ $149 \div 57$

⑤ $223 \div 31$



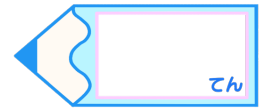


小数のわり算23

● 商を概数で求める
(四捨五入)

15

目指せ80点!



名まえ

・ 次のわり算で、商は四捨五入して、上から2けたのがい数で求めましょう。
(各20点)

① $50.9 \div 7$

			7	.	2	7
7)	5	0	.	9	0
		4	9			
			1	9		
			1	4		
				5	0	
				4	9	
						1

② $27.7 \div 4$

			6	.	9	2
4)	2	7	.	7	0
		2	4			
			3	7		
			3	6		
				1	0	
					8	
						2

③ $10.7 \div 3$

			3	.	5	6
3)	1	0	.	7	0
			9			
			1	7		
			1	5		
				2	0	
				1	8	
						2

④ $149 \div 57$

			2	.	6	1
5	7)	1	4	9	.00
		1	1	4		
			3	5	0	
			3	4	2	
				8	0	
				5	7	
				2	3	

⑤ $223 \div 31$

			7	.	1	9
3	1)	2	2	3	.00
		2	1	7		
			6	0		
			3	1		
			2	9	0	
			2	7	9	
				1	1	

