



# 垂直、平行と 四角形 19

● 対角線の性質と  
四角形の種類

15

目指せ80点!



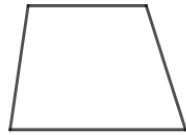
名まえ

1 次のせいしつがいつでもあてはまる四角形を、下からすべて選んで㉗から㉜で  
答えましょう。(各20点)

㉗ 平行四辺形



㉘ 台形



㉙ ひし形



㉚ 正方形



㉜ 長方形



① 向かい合った2組の辺がそれぞれ平行。

( )


② 4つの辺の長さがどれも等しい。

( )

③ 2本の対角線の長さが等しい。

( )

2 対角線の長さが10cmと8cmのひし形をかきましょう。(40点)





# 垂直、平行と 四角形 19

● 対角線の性質と  
四角形の種類

15

目指せ80点!



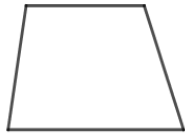
名まえ

1 次のせいしつがいつでもあてはまる四角形を、下からすべて選んで㉗から㉜で  
答えましょう。(各20点)

㉗ 平行四辺形



㉘ 台形



㉙ ひし形



㉚ 正方形



㉜ 長方形



① 向かい合った2組の辺がそれぞれ平行。

( ㉗, ㉘, ㉚, ㉜ )

② 4つの辺の長さがどれも等しい。

( ㉙, ㉚ )

③ 2本の対角線の長さが等しい。

( ㉚, ㉜ )

2 対角線の長さが10cmと8cmのひし形をかきましょう。(40点)

