


小数のたし算とひき算4

◎計算のくふうと小数のたし算

15

目指せ80点!



名まえ _____

1 工夫して計算しましょう。(各20点)

① $2.3 + 3.8 + 6.2 =$

=

=

② $6.75 + 4.9 + 1.25 =$

=


=

2 次の計算をしましょう。(各15点)


① $3.48 + 5.7$




② $1.578 + 2.922$



③ $45.17 + 2.83$



④ $28 + 3.49$



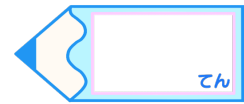


小数のたし算とひき算4

◎計算のくふうと小数のたし算

15

目指せ80点!



名まえ _____

1 工夫して計算しましょう。(各20点)

$$\begin{aligned} \textcircled{1} \quad 2.3 + 3.8 + 6.2 &= 3.8 + 6.2 + 2.3 \\ &= 10 + 2.3 \\ &= 12.3 \end{aligned}$$

$$\begin{aligned} \textcircled{2} \quad 6.75 + 4.9 + 1.25 &= 6.75 + 1.25 + 4.9 \\ &= 8 + 4.9 \\ &= 12.9 \end{aligned}$$

2 次の計算をしましょう。(各15点)

① 3.48 + 5.7

	3	.	4	8
+	5	.	7	
<hr/>				
	9	.	1	8

② 1.578 + 2.922

	1	.	5	7	8
+	2	.	9	2	2
<hr/>					
	4	.	5	0	0

③ 45.17 + 2.83

	4	5	.	1	7
+		2	.	8	3
<hr/>					
	4	8	.	0	0

④ 28 + 3.49

	2	8	.		
+		3	.	4	9
<hr/>					
	3	1	.	4	9

