


小数のたし算とひき算 10

◎小数の筆算のまちがい探し



目指せ75点!



名まえ _____

- 次の筆算はまちがっています。
その理由を、下のア～ウから選んで記号を書きましょう。(各25点)

1 ①

	1	6.	2	
+		2.	9	4
<hr/>				
	1	8.	1	4

②

	6.	6	2	
+	4.	4	6	
<hr/>				
1.	1	0	8	

- ㊶ くり上がりをまちがえている。
- ㊷ 和の小数点をうつ位置をまちがえている。
- ㊸ 和の消してはいけない0を消している。

答え： ① _____ ② _____

2 ①


	9	7.	4	
-	4	7.	4	
<hr/>				
	3	0	0	

②

	3	4.	7	2
-	2.	1	7	
<hr/>				
	1.	3	0	2

- ㊶ 位をそろえて書いていない。
- ㊷ 差の小数点をうつ位置をまちがえている。
- ㊸ 差の消してはいけない0を消している。

答え： ① _____ ② _____




小数のたし算とひき算 10

◎小数の筆算のまちがい探し



目指せ75点!



名まえ _____

- 次の筆算はまちがっています。
その理由を、下のア～ウから選んで記号を書きましょう。(各25点)

1 ①

	1	6.	2	
+		2.	9	4
<hr/>				
	1	8.	1	4

②

	6.	6	2	
+	4.	4	6	
<hr/>				
1.	1	0	8	

- ア くり上がりをまちがえている。
- イ 和の小数点をうつ位置をまちがえている。
- ウ 和の消してはいけない0を消している。

答え： ① **ア** ② **イ**

2 ①

	9	7.	4	
-	4	7.	4	
<hr/>				
	3	0	0	

②

	3	4.	7	2
-	2.	1	7	
<hr/>				
	1.	3	0	2

- ア 位をそろえて書いていない。
- イ 差の小数点をうつ位置をまちがえている。
- ウ 差の消してはいけない0を消している。

答え： ① **ウ** ② **ア**