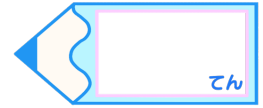


小数のわり算6

● 小数点以下1桁の
帯小数÷2桁の整数

15

目指せ80点!



名まえ

・ 次の計算をしなさい。(各20点)

①

5)	1	8	.	5

②

3	3)	7	9	.	2

③



$28.8 \div 8$

④

$83.2 \div 26$

⑤

$44.8 \div 14$



すらすらぷりん

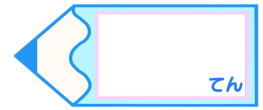


小数のわり算6

○ 小数点以下1桁の
帯小数÷2桁の整数

15

目指せ80点!



名まえ

・ 次の計算をしなさい。(各20点)

①

		3.7	
5)	18.5	
		15	
		35	
		35	
		0	

②

		2.4	
33)	79.2	
		66	
		132	
		132	
		0	

③ $28.8 \div 8$



		3.6	
8)	28.8	
		24	
		48	
		48	
		0	

④ $83.2 \div 26$

		3.2	
26)	83.2	
		78	
		52	
		52	
		0	

⑤ $44.8 \div 14$

		3.2	
14)	44.8	
		42	
		28	
		28	
		0	



すらすらぷりん