



小数のわり算8

● 小数第二位までの
帯小数÷1桁の整数

15

目指せ80点!



名まえ

・ 次の計算をしなさい。(各20点)



① $5.67 \div 3$

② $9.28 \div 4$

③ $66.8 \div 4$

④ $28.2 \div 3$

⑤ $5.28 \div 8$



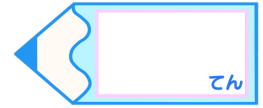


小数のわり算8

○ 小数第二位までの
帯小数÷1桁の整数

15

目指せ80点!



名まえ

・ 次の計算をしなさい。(各20点)

① $5.67 \div 3$

	1	.	8	9	
3)	5	.	6	7
		3			
		2	6		
		2	4		
			2	7	
			2	7	
				0	

② $9.28 \div 4$

	2	.	3	2	
4)	9	.	2	8
		8			
		1	2		
		1	2		
				8	
				8	
				0	

③ $66.8 \div 4$

	1	6	.	7	
4)	6	6	.	8
		4			
		2	6		
		2	4		
			2	8	
			2	8	
				0	

④ $28.2 \div 3$

		9	.	4	
3)	2	8	.	2
		2	7		
			1	2	
			1	2	
				0	

⑤ $5.28 \div 8$

	0	.	6	6	
8)	5	.	2	8
		4	8		
			4	8	
			4	8	
				0	

