

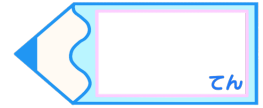


# 小数のわり算9

● 小数第二位までの  
帯小数÷2桁の整数

15

目指せ80点!



名まえ

・ 次の計算をしなさい。(各20点)

①

$$15 \overline{) 6.15}$$

②

$$28 \overline{) 4.76}$$

③



$$93.6 \div 26$$

④

$$26.4 \div 33$$

⑤

$$6.24 \div 16$$



すらすらぷりんと

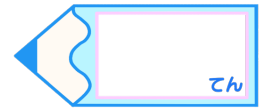


# 小数のわり算9

● 小数第二位までの  
帯小数÷2桁の整数

15

目指せ80点!



名まえ

・ 次の計算をしなさい。(各20点)

①

		0.4	1
1	5	)	6.15
		6	0
			15
			15
			0

②

		0.1	7
2	8	)	4.76
		2	8
			196
			196
			0

③  $93.6 \div 26$

		0.3	6
2	6	)	9.36
		7	8
			156
			156
			0

④  $26.4 \div 33$

		0.0	8
3	3	)	2.64
		2	6
			4
			0

⑤  $6.24 \div 16$

		0.3	9
1	6	)	6.24
		4	8
			144
			144
			0

