




# 小数のわり算 9

● 小数第二位までの  
帯小数 ÷ 2けたの整数

15

目指せ80点!



名まえ

・ 次の計算をしなさい。(各20点)

①

1	5	)	6	.	1	5



②

2	8	)	4	.	7	6

③  $93.6 \div 26$


④  $26.4 \div 33$


⑤  $6.24 \div 16$



# 小数のわり算 9

○ 小数第二位までの  
帯小数 ÷ 2けたの整数

15

目指せ80点!



名まえ

・ 次の計算をしなさい。(各20点)

①

		0.41
15	)	6.15
		60
		15
		15
		0

②

		0.17
28	)	4.76
		28
		196
		196
		0

③  $93.6 \div 26$

		0.36
26	)	9.36
		78
		156
		156
		0

④  $26.4 \div 33$

		0.8
33	)	26.4
		264
		0

⑤  $6.24 \div 16$

		0.39
16	)	6.24
		48
		144
		144
		0

