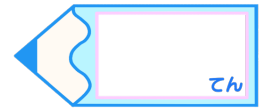


分数 00

◎ 帯分数どうしのたし算

15

目指せ80点!



名まえ

1 次の計算をしましょう。

(各10点)

$$\textcircled{1} \quad 2\frac{3}{4} + 2\frac{2}{4} =$$

$$\textcircled{2} \quad 1\frac{1}{3} + 3\frac{1}{3} =$$

$$\textcircled{3} \quad 2\frac{6}{7} + 1\frac{4}{7} =$$

$$\textcircled{4} \quad 1\frac{7}{9} + 1\frac{4}{9} =$$

2 次の計算をしましょう。

(各10点)

$$\textcircled{1} \quad \frac{3}{4} - \frac{2}{4} =$$


$$\textcircled{2} \quad \frac{5}{7} + \frac{4}{7} =$$

$$\textcircled{3} \quad \frac{3}{8} + \frac{4}{8} =$$

$$\textcircled{4} \quad \frac{13}{7} - \frac{5}{7} =$$

$$\textcircled{5} \quad \frac{3}{5} + \frac{4}{5} =$$

$$\textcircled{6} \quad \frac{8}{9} - \frac{3}{9} =$$




分数 00

◎ 帯分数どうしのたし算

15

目指せ80点!



名まえ

1 次の計算をしましょう。

(各10点)

$$\textcircled{1} \quad 2\frac{3}{4} + 2\frac{2}{4} = \frac{11}{4} + \frac{10}{4} = \frac{21}{4}$$

$$\textcircled{2} \quad 1\frac{1}{3} + 3\frac{1}{3} = \frac{4}{3} + \frac{10}{3} = \frac{14}{3}$$

$$\textcircled{3} \quad 2\frac{6}{7} + 1\frac{4}{7} = \frac{20}{7} + \frac{11}{7} = \frac{31}{7}$$

$$\textcircled{4} \quad 1\frac{7}{9} + 1\frac{4}{9} = \frac{16}{9} + \frac{13}{9} = \frac{29}{9}$$

2 次の計算をしましょう。

(各10点)

$$\textcircled{1} \quad \frac{3}{4} - \frac{2}{4} = \frac{1}{4}$$

$$\textcircled{4} \quad \frac{13}{7} - \frac{5}{7} = \frac{8}{7}$$

$$\textcircled{2} \quad \frac{5}{7} + \frac{4}{7} = \frac{9}{7}$$

$$\textcircled{5} \quad \frac{3}{5} + \frac{4}{5} = \frac{7}{5}$$

$$\textcircled{3} \quad \frac{3}{8} + \frac{4}{8} = \frac{7}{8}$$

$$\textcircled{6} \quad \frac{8}{9} - \frac{3}{9} = \frac{5}{9}$$

