



小数のわり算 12

● 帯小数の"あまり"を求める

15

目指せ80点!



名まえ

1 次の筆算をしましょう。商は一の位まで求め、あまりもだしましょう。

(各20点)

① $29.7 \div 6$

② $50.5 \div 7$

③ $55.7 \div 9$



2 次の計算を筆算でしましょう。(各20点)

① $0.64 \div 16$

--

② $6.46 \div 19$

--



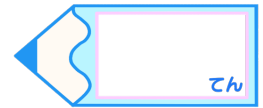


小数のわり算 12

● 帯小数の"あまり"を求める

15

目指せ80点!



名まえ

1 次の筆算をしましょう。商は一の位まで求め、あまりもだしましょう。

(各20点)

① $29.7 \div 6$

$$\begin{array}{r}
 4 \\
 6 \overline{) 29.7} \\
 \underline{24} \\
 5 7 \\
 \underline{54} \\
 3
 \end{array}$$

② $50.5 \div 7$

$$\begin{array}{r}
 7 \\
 7 \overline{) 50.5} \\
 \underline{49} \\
 1 5 \\
 \underline{14} \\
 1
 \end{array}$$

③ $55.7 \div 9$

$$\begin{array}{r}
 6 \\
 9 \overline{) 55.7} \\
 \underline{54} \\
 1 7 \\
 \underline{18} \\
 1
 \end{array}$$



2 次の計算を筆算でしましょう。(各20点)

① $0.64 \div 16$

$$\begin{array}{r}
 0.04 \\
 16 \overline{) 0.64} \\
 \underline{64} \\
 0
 \end{array}$$

② $6.46 \div 19$

$$\begin{array}{r}
 0.34 \\
 19 \overline{) 6.46} \\
 \underline{57} \\
 76 \\
 \underline{76} \\
 0
 \end{array}$$



すらすらぷりんと