




# 小数のわり算 12

◎ 帯小数の"あまり"を求める

15

目指せ80点!



名まえ \_\_\_\_\_


1 次の筆算をしましょう。商は一の位まで求め、あまりもだしましょう。

(各20点)


①  $29.7 \div 6$



②  $50.5 \div 7$




③  $55.7 \div 9$






2 次の計算を筆算でしましょう。(各20点)

①  $0.64 \div 16$



②  $6.46 \div 19$





# 小数のわり算 12

◎ 帯小数の"あまり"を求める

15

目指せ80点!



名まえ

1 次の筆算をしましょう。商は一の位まで求め、あまりもだしましょう。

(各20点)

①  $29.7 \div 6$

		4	
6	)	29.7	
		24	
		5	7

②  $50.5 \div 7$

		7	
7	)	50.5	
		49	
		1	5

③  $55.7 \div 9$

		6	
9	)	55.7	
		54	
		1	7

2 次の計算を筆算でしましょう。(各20点)

①  $0.64 \div 16$

		0.04	
16	)	0.64	
		64	
		0	

②  $6.46 \div 19$

		0.34	
19	)	6.46	
		57	
		76	
		76	
		0	

