

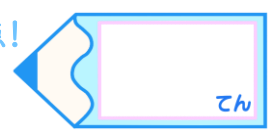


小数の表し方5

◎ 数直線の読みとり

15

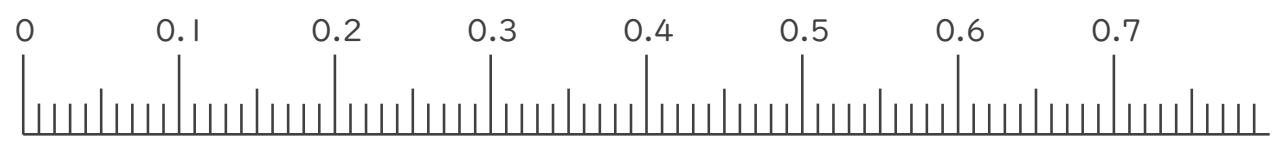
目指せ90点!



名まえ _____

1. 次の小数を表すめもりに ↑ を書きましょう。(各10点)

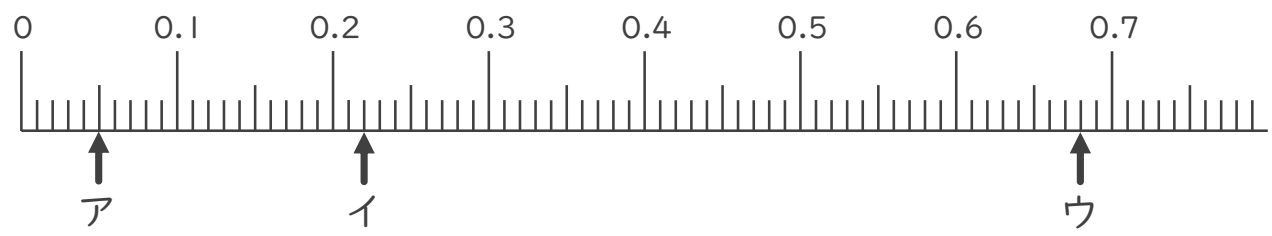
- ① 0.01 ② 0.15 ③ 0.52 ④ 0.69



- ⑤ 0.92 ⑥ 1.01 ⑦ 1.57



2. 次の数直線でア～ウが表す数を答えましょう。(各10点)



ア _____ イ _____ ウ _____

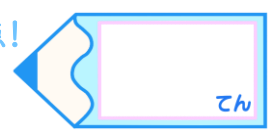


小数の表し方5

15

◎ 数直線の読みとり

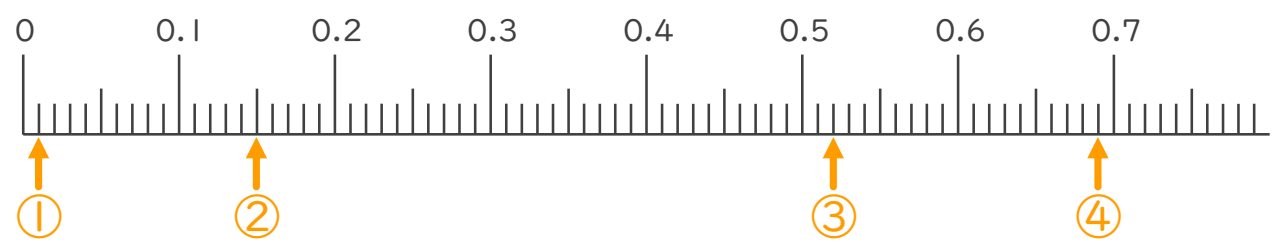
目指せ90点!



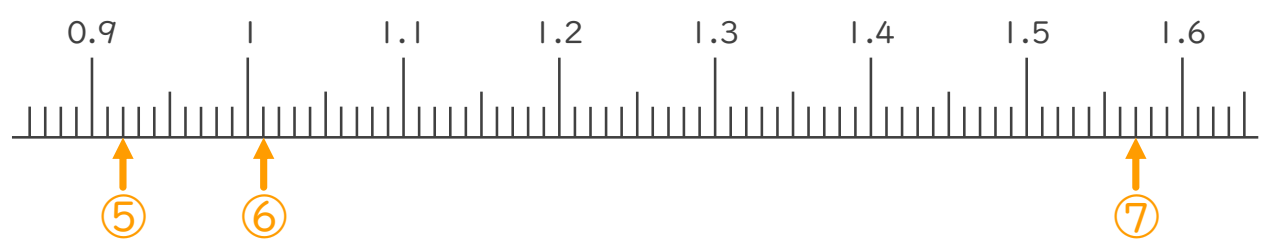
名まえ _____

1. 次の小数を表すめもりに ↑ を書きましょう。(各10点)

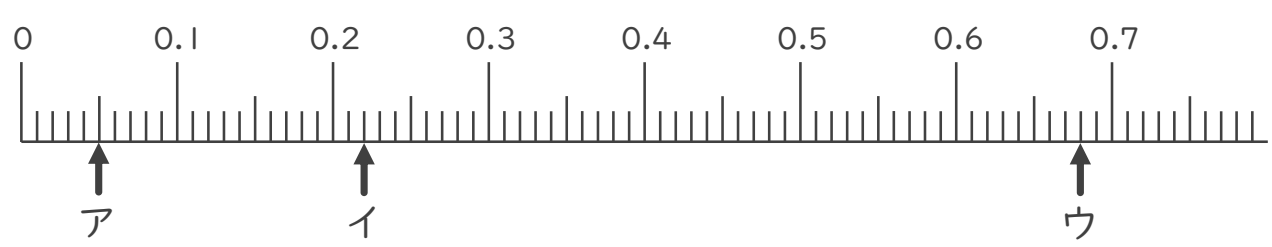
- ① 0.01 ② 0.15 ③ 0.52 ④ 0.69



- ⑤ 0.92 ⑥ 1.01 ⑦ 1.57



2. 次の数直線でア～ウが表す数を答えましょう。(各10点)



ア 0.05 イ 0.22 ウ 0.68

