



小数の表し方8

㊦ 数直線の読みとり
(小数第三位)

15

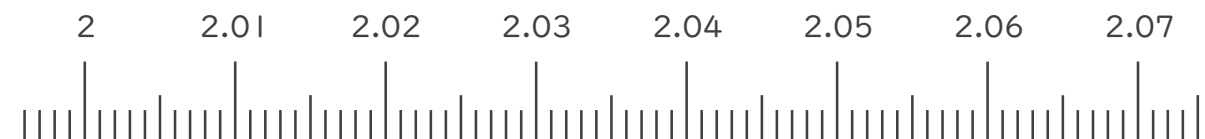
目指せ90点!



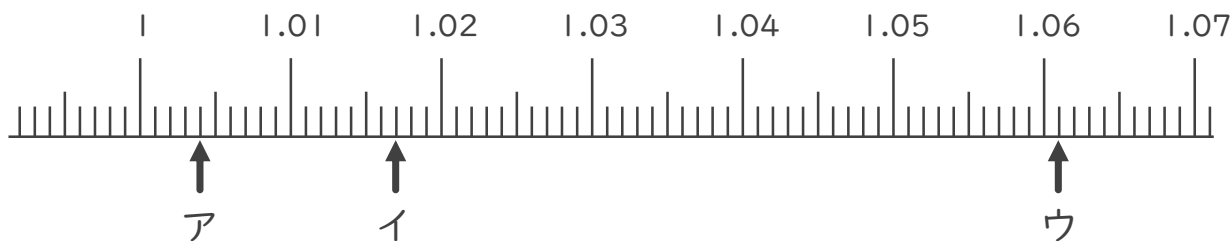
名まえ _____

1. 次の小数を表すめもりに ↑ を書きましょう。(各10点)

- ① 2.001
- ② 2.011
- ③ 2.015
- ④ 2.048
- ⑤ 2.069



2. 次の数直線でア～ウが表す数を答えましょう。(各10点)



ア _____

イ _____

ウ _____

3. 次の問いに答えましょう。

① 0.008m は 0.001m を何こ集めたかさですか？

答え _____

② 0.01m は 0.001m を何こ集めたかさですか？

答え _____





小数の表し方8

㊦ 数直線の読みとり
(小数第三位)

15

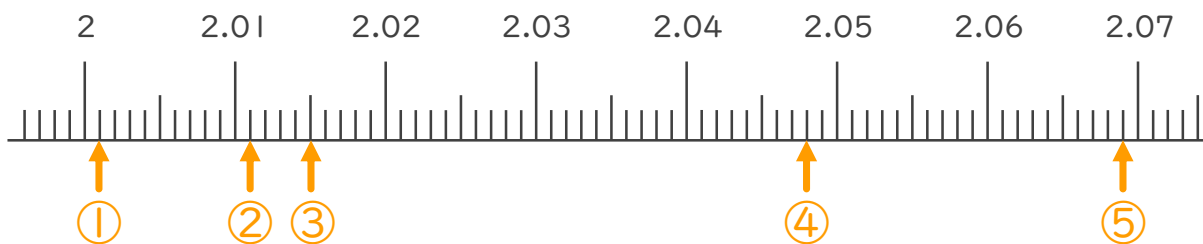
目指せ90点!



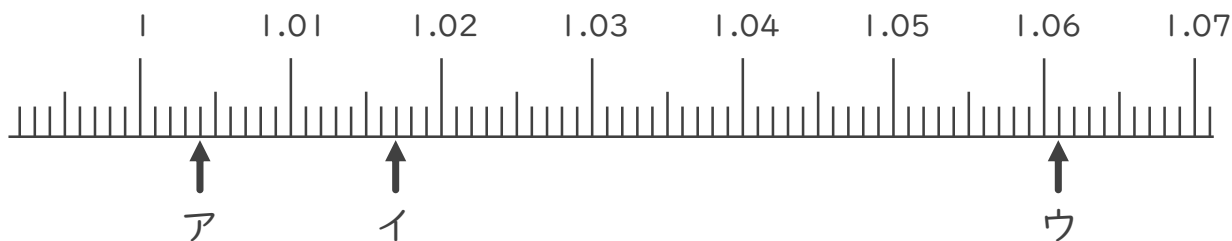
名まえ _____

1. 次の小数を表すめもりに ↑ を書きましょう。(各10点)

- ① 2.001 ② 2.011 ③ 2.015 ④ 2.048
- ⑤ 2.069



2. 次の数直線でア～ウが表す数を答えましょう。(各10点)



ア 1.004 イ 1.017 ウ 1.061

3. 次の問いに答えましょう。

① 0.008m は 0.001m を何こ集めたかさですか？

答え 8こ

② 0.01m は 0.001m を何こ集めたかさですか？

答え 10こ

