



# 角の大きさ 00

● 時計回りの角の作図

15

めざせ75点!




名まえ \_\_\_\_\_

・ 点アを頂点として、次の大きさの角をかきましょう。(各25点)

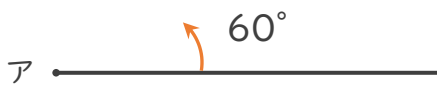
①  $80^\circ$

②  $125^\circ$



③  $60^\circ$

④  $105^\circ$






# 角の大きさ 00

● 時計回りの角の作図

15

めざせ75点!

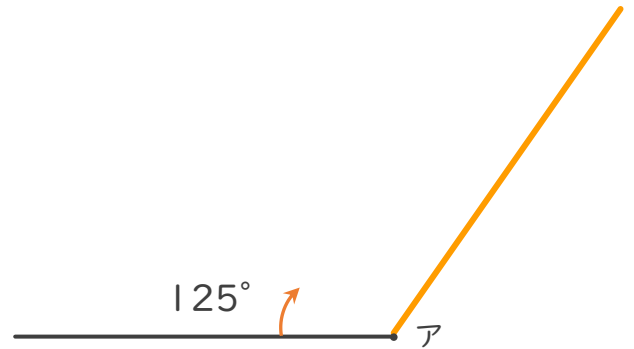
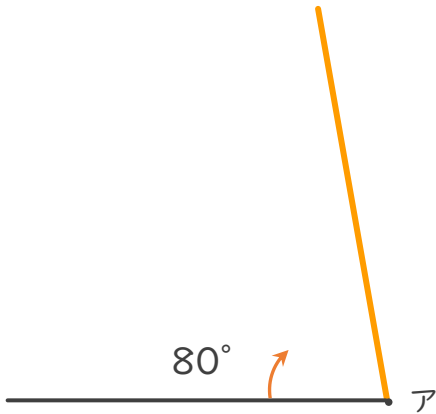


名まえ \_\_\_\_\_

・ 点アを頂点として、次の大きさの角をかきましょう。(各25点)

①  $80^\circ$

②  $125^\circ$



③  $60^\circ$

④  $105^\circ$

