


小数のかけ算6

● 末尾が0になる
小数×2桁の整数

15

目指せ80点!



名まえ _____

・ 次の計算をしましょう。(各10点)

①

		1	.	6
	×	8	5	
<hr/>				

②

		8	.	7
	×	2	9	
<hr/>				

③

		5	.	4
	×	3	5	
<hr/>				

④

		3	.	6
	×	3	5	
<hr/>				

⑤

		3	.	5
	×	7	7	
<hr/>				

⑥


		5	.	5
	×	5	2	
<hr/>				

⑦ 0.6×55

⑧ 0.5×42

⑨ 0.6×85

⑩ 7.2×25




小数のかけ算6

● 末尾が0になる
小数×2桁の整数

15

目指せ80点!



名まえ _____

・ 次の計算をしましょう。(各10点)

①

		1.6	
	×	85	
		80	
1	2	8	
1	3	6.0	

②

		8.7	
	×	29	
		783	
1	7	4	
2	5	2.3	

③

		5.4	
	×	35	
		270	
1	6	2	
1	8	9.0	

④

		3.6	
	×	35	
		180	
1	0	8	
1	2	6.0	

⑤

		3.5	
	×	77	
		245	
2	4	5	
2	6	9.5	

⑥

		5.5	
	×	52	
		110	
2	7	5	
2	8	6.0	

⑦ 0.6 × 55

	0.6	
×	55	
	30	
3	0	
3	3.0	

⑧ 0.5 × 42

	0.5	
×	42	
	10	
2	0	
2	1.0	

⑨ 0.6 × 85

	0.6	
×	85	
	30	
4	8	
5	1.0	

⑩ 7.2 × 25

	7.2	
×	25	
	360	
1	44	
1	80.0	