



# 小数の表し方 4

# 15

◎ 水のかさをぬる

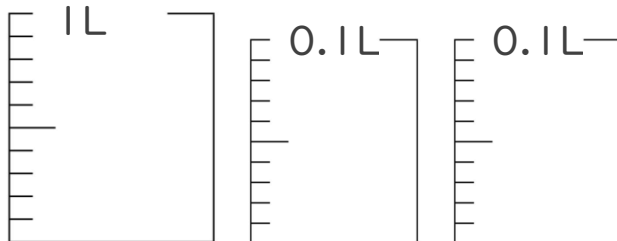
目指せ80点!



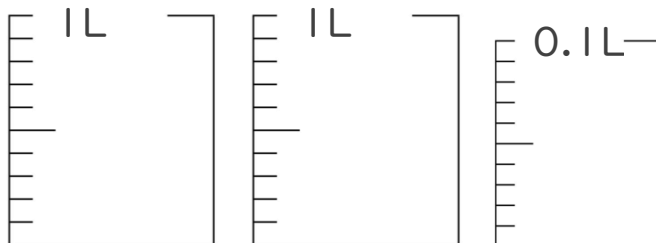
名まえ \_\_\_\_\_

1. 次の水のかさの分だけ色をぬりましょう。(各20点)

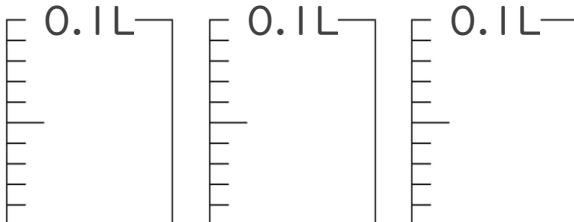
① 1.16 L



② 2.01 L

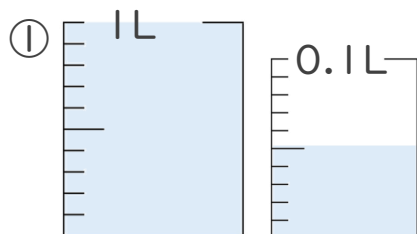


③ 0.28 L

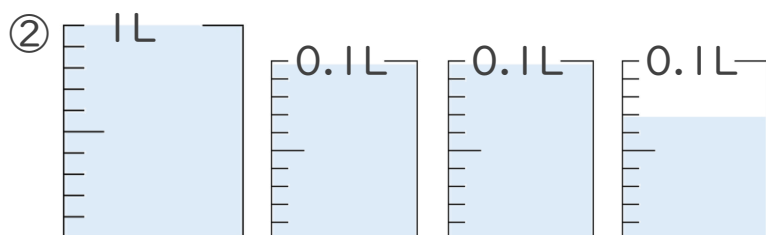


2. 1L入る水さしと、0.1L入る水さしがあります。

水さしに入っている水のかさを、L単位で表しましょう。(各20点)



答え \_\_\_\_\_



答え \_\_\_\_\_





# 小数の表し方4

# 15

◎ 水のかさをぬる

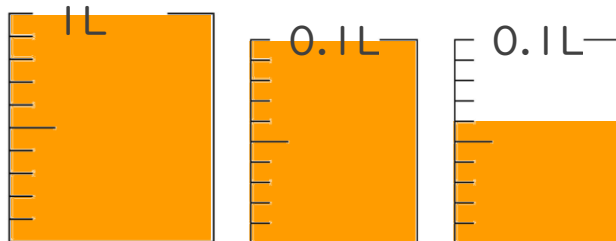
目指せ80点!



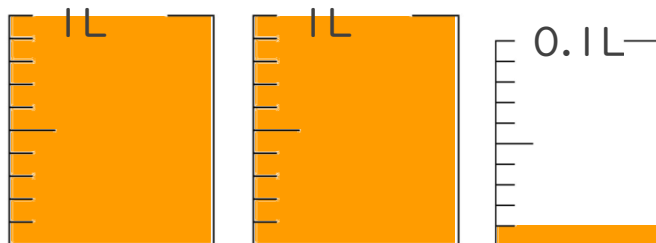
名まえ \_\_\_\_\_

1. 次の水のかさの分だけ色をぬりましょう。

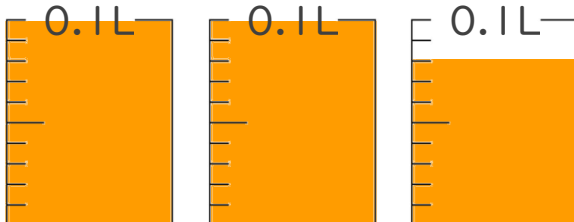
① 1.16 L



② 2.01 L

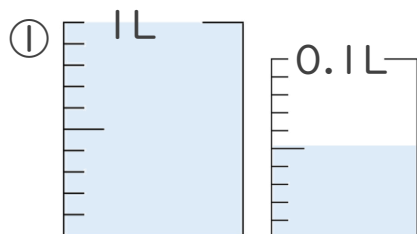


③ 0.28 L

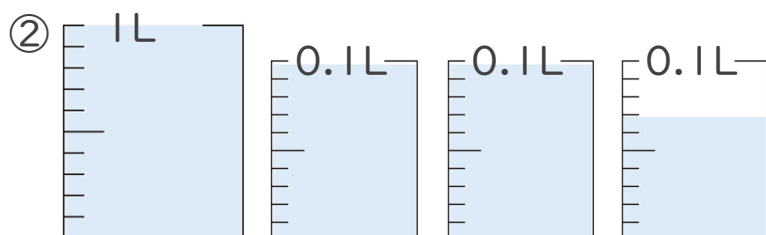


2. 1L入る水さしと、0.1L入る水さしがあります。

水さしに入っている水のかさを、L単位で表しましょう。



答え 1.05L



答え 1.27L

