



分数 (分数の表し方) 2

● 水のかさを帯分数と仮分数で表す

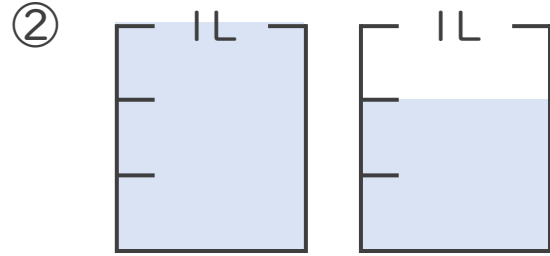
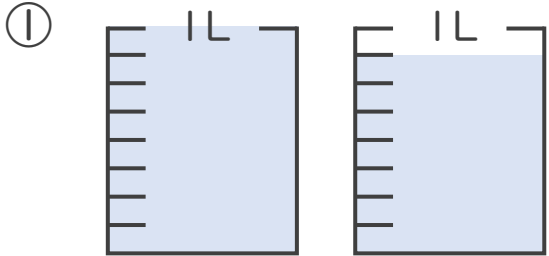
15

めざせ90点!



名まえ _____

1 水のかさは何Lですか。仮分数と帯分数の両方で表しましょう。
(各10点)



答え：仮分数… L

帯分数… L

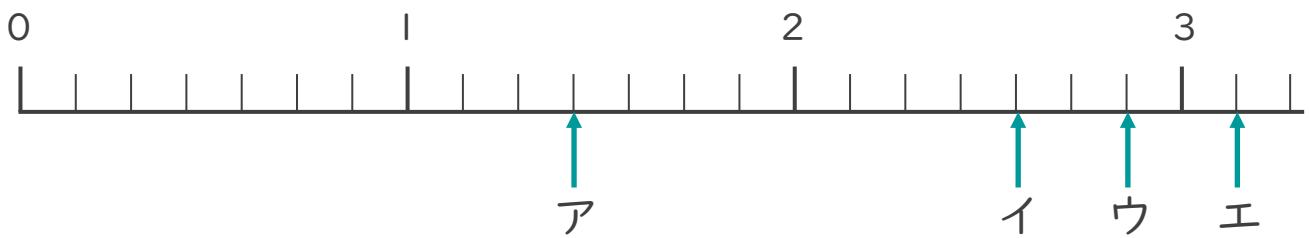
答え：仮分数… L

帯分数… L

2 ア～エのめもりが表す分数はいくつですか。

1より大きい分数は、仮分数と帯分数の両方で表しましょう。

(各15点)



答え：ア

ウ

イ

エ





分数 (分数の表し方) 2

● 水のかさを帯分数と仮分数で表す

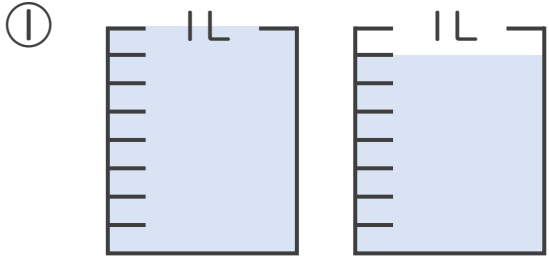
15

めざせ90点!



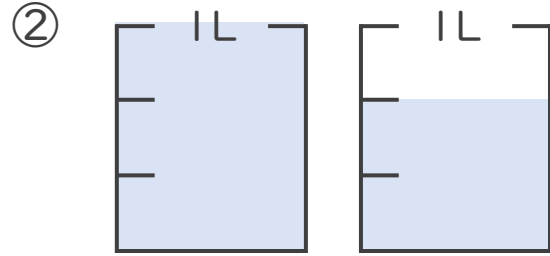
名まえ _____

1 水のかさは何Lですか。仮分数と帯分数の両方で表しましょう。
(各10点)



答え：仮分数… $\frac{15}{8}$ L

帯分数… $1\frac{7}{8}$ L

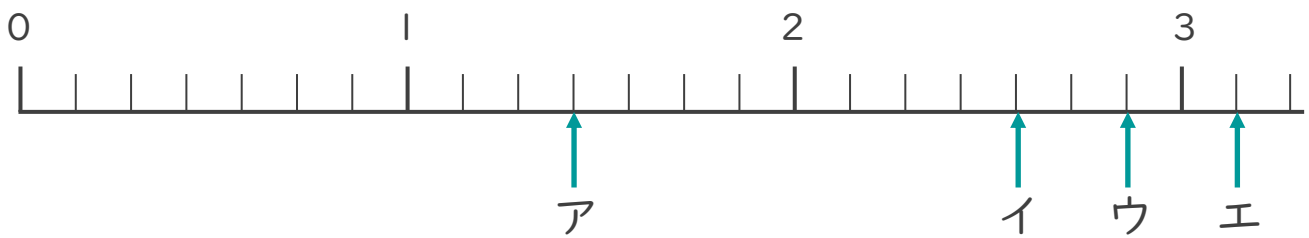


答え：仮分数… $\frac{5}{3}$ L

帯分数… $1\frac{2}{3}$ L

2 ア～エのめもりが表す分数はいくつですか。

1より大きい分数は、仮分数と帯分数の両方で表しましょう。
(各15点)



答え：ア $\frac{10}{7}$, $1\frac{3}{7}$

イ $\frac{18}{7}$, $2\frac{4}{7}$

ウ $\frac{20}{7}$, $2\frac{6}{7}$

エ $\frac{22}{7}$, $3\frac{1}{7}$

