




### 小数のかけ算 3

◎ くり上がりのある  
帯小数 × 1けたの整数の筆算

15

目指せ90点!



名まえ \_\_\_\_\_

・ 次の計算をしましょう。(各10点)

①  $0.5 \times 9 =$

②  $0.4 \times 8 =$

③  $0.6 \times 2 =$

④  $0.7 \times 3 =$


⑤  $9.2 \times 9$




⑥  $7.8 \times 3$




⑦  $9.2 \times 4$



⑧  $8.2 \times 4$



⑨  $5.8 \times 7$



⑩  $5.9 \times 2$






### 小数のかけ算 3

◎ くり上がりのある  
帯小数 × 1けたの整数の筆算

15

目指せ90点!



名まえ \_\_\_\_\_

・ 次の計算をしましょう。(各10点)

①  $0.5 \times 9 = 4.5$

②  $0.4 \times 8 = 3.2$

③  $0.6 \times 2 = 1.2$

④  $0.7 \times 3 = 2.1$

⑤  $9.2 \times 9$

	9	2
×		9
<hr/>		
8	2	8

⑥  $7.8 \times 3$

	7	8
×		3
<hr/>		
2	3	4

⑦  $9.2 \times 4$

	9	2
×		4
<hr/>		
3	6	8

⑧  $8.2 \times 4$

	8	2
×		4
<hr/>		
3	2	8

⑨  $5.8 \times 7$

	5	8
×		7
<hr/>		
4	0	6

⑩  $5.9 \times 2$

	5	9
×		2
<hr/>		
1	1	8