

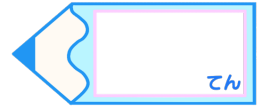


小数のかけ算2

● 繰り上がりのない
帯小数×1桁の整数の筆算

15

目指せ80点!



名まえ _____

・ 次の計算をしましょう。(各10点)

① $0.6 \times 7 =$

② $0.7 \times 3 =$

③ $0.2 \times 6 =$

④ $0.4 \times 7 =$

⑤ 4.3×2

⑥ 7.3×2


⑦ 8.1×6

⑧ 7.4×2

⑨ 9.3×3

⑩ 6.1×4



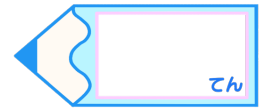


小数のかけ算2

● 繰り上がりのない
帯小数×1桁の整数の筆算

15

目指せ80点!



名まえ

・ 次の計算をしましょう。(各10点)

① $0.6 \times 7 = 4.2$

② $0.7 \times 3 = 2.1$

③ $0.2 \times 6 = 1.2$

④ $0.4 \times 7 = 2.8$

⑤ 4.3×2

	4	.	3
×			2
<hr/>			
	8	.	6

⑥ 7.3×2

	7	.	3
×			2
<hr/>			
1	4	.	6

⑦ 8.1×6

	8	.	1
×			6
<hr/>			
4	8	.	6

⑧ 7.4×2

	7	.	4
×			2
<hr/>			
1	4	.	8

⑨ 9.3×3

	9	.	3
×			3
<hr/>			
2	7	.	9

⑩ 6.1×4

	6	.	1
×			4
<hr/>			
2	4	.	4

