




## 小数のかけ算 2

◎ くり上がりのない  
帯小数 × 1けたの整数の筆算

15

目指せ90点!



名まえ \_\_\_\_\_

・ 次の計算をしましょう。(各10点)

①  $0.6 \times 7 =$

②  $0.7 \times 3 =$

③  $0.2 \times 6 =$

④  $0.4 \times 7 =$

⑤  $4.3 \times 2$




⑥  $7.3 \times 2$



⑦  $8.1 \times 6$




⑧  $7.4 \times 2$



⑨  $9.3 \times 3$



⑩  $6.1 \times 4$






## 小数のかけ算 2

◎ くり上がりのない  
帯小数 × 1けたの整数の筆算

15

目指せ90点!



名まえ \_\_\_\_\_

・ 次の計算をしましょう。(各10点)

①  $0.6 \times 7 = 4.2$

②  $0.7 \times 3 = 2.1$

③  $0.2 \times 6 = 1.2$

④  $0.4 \times 7 = 2.8$

⑤  $4.3 \times 2$

	4	.	3
×			2
<hr/>			
	8	.	6

⑥  $7.3 \times 2$

	7	.	3
×			2
<hr/>			
1	4	.	6

⑦  $8.1 \times 6$

	8	.	1
×			6
<hr/>			
4	8	.	6

⑧  $7.4 \times 2$

	7	.	4
×			2
<hr/>			
1	4	.	8

⑨  $9.3 \times 3$

	9	.	3
×			3
<hr/>			
2	7	.	9

⑩  $6.1 \times 4$

	6	.	1
×			4
<hr/>			
2	4	.	4

