




面積の  
はかり方と表し方 4

15

◎ 長方形や正方形の面積

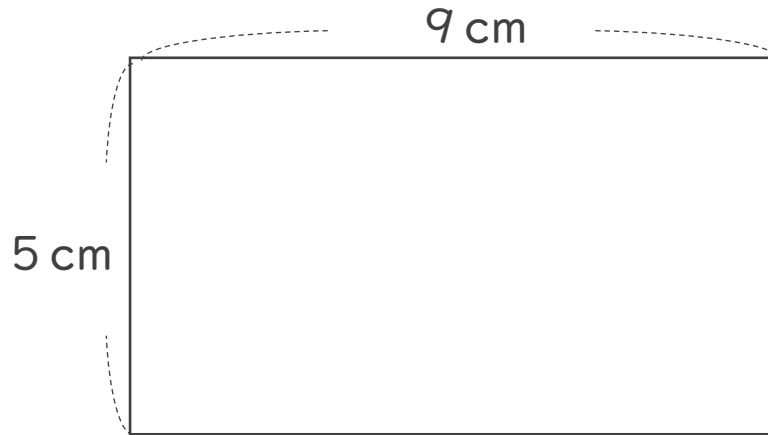
目指せ100点!



名まえ \_\_\_\_\_

・ 次の長方形や正方形の面積は何 $\text{cm}^2$ ですか。(各50点)

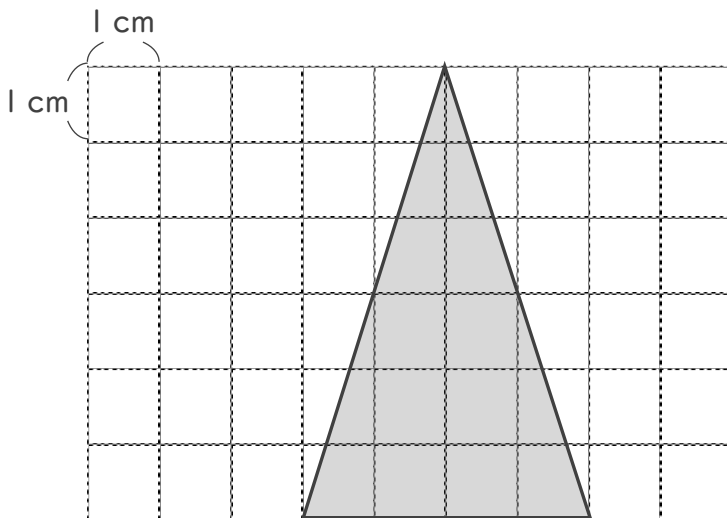
①



式：

答え： \_\_\_\_\_

②



答え： \_\_\_\_\_




面積の  
はかり方と表し方 4

◎ 長方形や正方形の面積

15

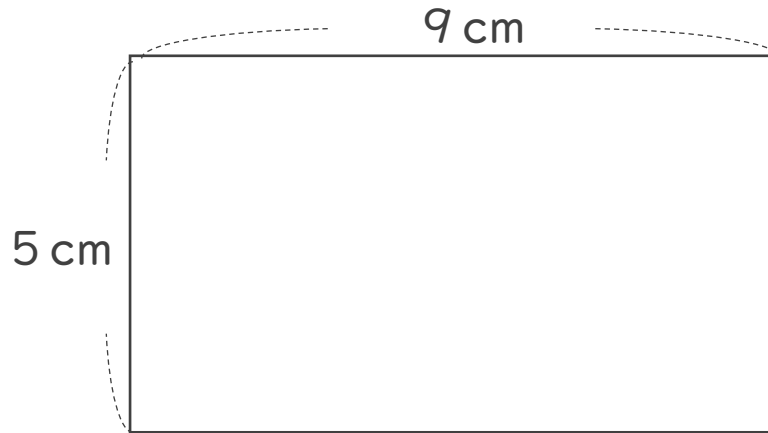
目指せ100点!



名まえ \_\_\_\_\_

・ 次の長方形や正方形の面積は何 $\text{cm}^2$ ですか。(各50点)

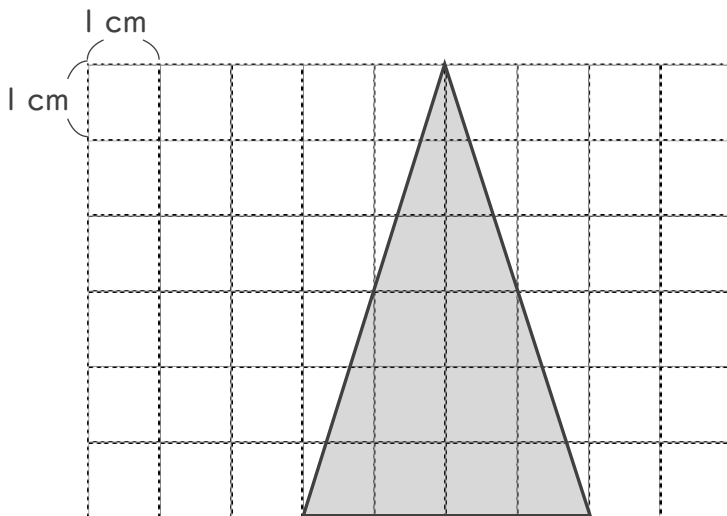
①



式： $5 \times 9 = 45$

答え： $45 \text{ cm}^2$

②



答え： $12 \text{ cm}^2$