




面積の  
はかり方と表し方 10

15

● 面積の単位変換

目指せ80点!



名まえ \_\_\_\_\_

1 次の  にあてはまる数を答えなさい。(各20点)

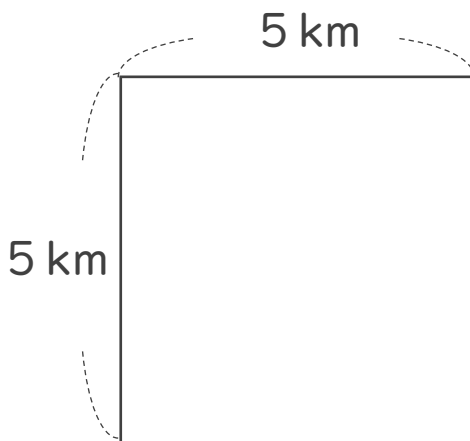
①  $100000\text{cm}^2 = \text{  } \text{m}^2$

②  $200\text{m}^2 = \text{  } \text{cm}^2$

③  $0.007\text{km}^2 = \text{  } \text{cm}^2$

④  $400000000000\text{cm}^2 = \text{  } \text{km}^2$

2 次の図形の面積を求めましょう。(20点)



式：

答え： \_\_\_\_\_



面積の  
はかり方と表し方 10

15

● 面積の単位変換

目指せ80点!



名まえ \_\_\_\_\_

1 次の  にあてはまる数を答えなさい。(各20点)

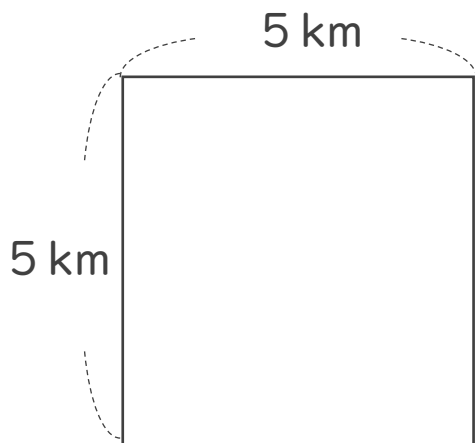
①  $100000\text{cm}^2 =$    $\text{m}^2$

②  $200\text{m}^2 =$    $\text{cm}^2$

③  $0.007\text{km}^2 =$    $\text{cm}^2$

④  $400000000000\text{cm}^2 =$    $\text{km}^2$

2 次の図形の面積を求めましょう。(20点)



式： $5 \times 5 = 25$

答え：25  $\text{km}^2$