

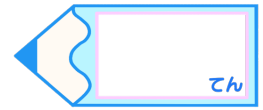


小数のわり算 14

2桁の整数で割って
あまりも求める

15

目指せ80点!



名まえ

・次の筆算をしましょう。商は一の位まで求め、あまりもだしましょう。

(各20点)


① $79.9 \div 18$


② $84.3 \div 28$

③ $35.2 \div 6$

④ $77.6 \div 34$

⑤ $45.4 \div 9$



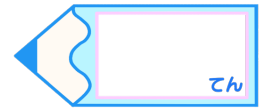


小数のわり算 14

2桁の整数で割って
あまりも求める

15

目指せ80点!



名まえ

・次の筆算をしましょう。商は一の位まで求め、あまりもだしましょう。

(各20点)

① $79.9 \div 18$

			4
1	8)	79.9
			72
			7.9

② $84.3 \div 28$

			3
2	8)	84.3
			84
			0.3

③ $35.2 \div 6$

			5
6)	35.2	
			30
			5.2

④ $77.6 \div 34$

			2
3	4)	77.6
			68
			9.6

⑤ $45.4 \div 9$

			5
9)	45.4	
			45
			0.4

