




垂直、平行と
四角形2

15

2直線と垂直

目指せ75点!



名まえ _____

・次の図で、2本の直線が垂直であるものを㉠～㉧の中から全て
選びましょう。(1つ25点)

㉠



㉡



㉢



㉣



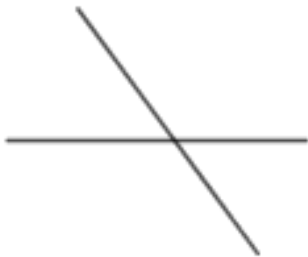
㉤



㉥



㉦



㉧



㉨



答え： _____






垂直, 平行と
四角形2

15

2直線と垂直

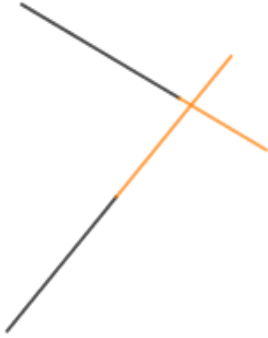
目指せ75点!



名まえ _____

・次の図で、2本の直線が垂直であるものを㉠～㉧の中から全て
選びましょう。(1つ25点)

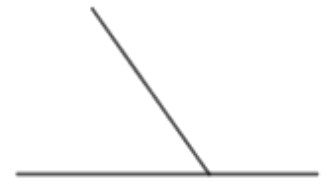
㉠



㉡



㉢



㉣



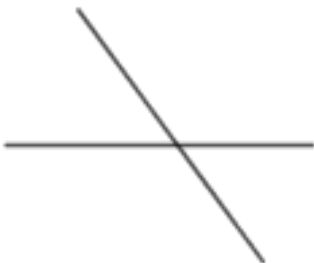
㉤



㉥



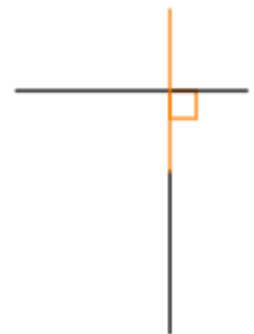
㉦



㉧



㉨



答え：㉡, ㉤, ㉥, ㉧

