

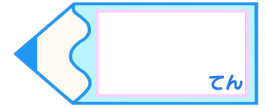


# 小数のわり算 16

● あまりを求める  
(商が帯小数)

# 16

目指せ80点!



## 名まえ

・ 次の筆算をしましょう。商は小数第一位まで求め、あまりもだしましょう。

(各10点)

①  $6.1 \div 4$

②  $4.9 \div 3$

③  $9.5 \div 7$

④  $6.2 \div 4$

⑤  $6.9 \div 4$


⑥  $5.9 \div 3$

⑦  $7.2 \div 5$

⑧  $8.6 \div 6$

⑨  $4.2 \div 9$

⑩  $3.8 \div 7$



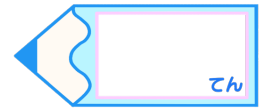


# 小数のわり算 16

● あまりを求める  
(商が帯小数)

# 16

目指せ80点!



## 名まえ

・次の筆算をしましょう。商は小数第一位まで求め、あまりもだしましょう。

(各10点)

①  $6.1 \div 4$

$$\begin{array}{r}
 1.5 \\
 4 \overline{)6.1} \\
 \underline{4} \phantom{0} \\
 21 \\
 \underline{20} \\
 0.1
 \end{array}$$

②  $4.9 \div 3$

$$\begin{array}{r}
 1.6 \\
 3 \overline{)4.9} \\
 \underline{3} \phantom{0} \\
 19 \\
 \underline{18} \\
 0.1
 \end{array}$$

③  $9.5 \div 7$

$$\begin{array}{r}
 1.3 \\
 7 \overline{)9.5} \\
 \underline{7} \phantom{0} \\
 25 \\
 \underline{21} \\
 0.4
 \end{array}$$

④  $6.2 \div 4$

$$\begin{array}{r}
 1.5 \\
 4 \overline{)6.2} \\
 \underline{4} \phantom{0} \\
 22 \\
 \underline{20} \\
 0.2
 \end{array}$$

⑤  $6.9 \div 4$

$$\begin{array}{r}
 1.7 \\
 4 \overline{)6.9} \\
 \underline{4} \phantom{0} \\
 29 \\
 \underline{28} \\
 0.1
 \end{array}$$

⑥  $5.9 \div 3$

$$\begin{array}{r}
 1.9 \\
 3 \overline{)5.9} \\
 \underline{3} \phantom{0} \\
 29 \\
 \underline{27} \\
 0.2
 \end{array}$$

⑦  $7.2 \div 5$

$$\begin{array}{r}
 1.4 \\
 5 \overline{)7.2} \\
 \underline{5} \phantom{0} \\
 22 \\
 \underline{20} \\
 0.2
 \end{array}$$

⑧  $8.6 \div 6$

$$\begin{array}{r}
 1.4 \\
 6 \overline{)8.6} \\
 \underline{6} \phantom{0} \\
 26 \\
 \underline{24} \\
 0.2
 \end{array}$$

⑨  $4.2 \div 9$

$$\begin{array}{r}
 0.4 \\
 9 \overline{)4.2} \\
 \underline{36} \\
 0.6
 \end{array}$$

⑩  $3.8 \div 7$

$$\begin{array}{r}
 0.5 \\
 7 \overline{)3.8} \\
 \underline{35} \\
 0.3
 \end{array}$$

