



小数のわり算 15

● あまりを求める
(商が真小数)

16

目指せ80点!



名まえ

1 次の筆算をしましょう。商は小数第一位まで求め、あまりもだしましょう。

(各10点)

① $2.6 \div 4$

② $1.7 \div 3$

③ $7.5 \div 8$

④ $5.6 \div 6$

⑤ $1.5 \div 2$

⑥ $5.2 \div 8$

⑦ $6.6 \div 9$


⑧ $4.8 \div 7$


2 次の筆算をしましょう。商は一の位まで求め、あまりもだしましょう。

(各10点)

⑨ $23.1 \div 6$

⑩ $59.8 \div 18$



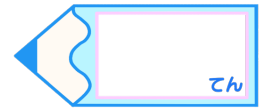


小数のわり算 15

● あまりを求める
(商が真小数)

16

目指せ80点!



名まえ

1 次の筆算をしましょう。商は小数第一位まで求め、あまりもだしましょう。

(各10点)

① $2.6 \div 4$

$$\begin{array}{r} 0.6 \\ 4 \overline{)2.6} \\ \underline{2.4} \\ 0.2 \end{array}$$

② $1.7 \div 3$

$$\begin{array}{r} 0.5 \\ 3 \overline{)1.7} \\ \underline{1.5} \\ 0.2 \end{array}$$

③ $7.5 \div 8$

$$\begin{array}{r} 0.9 \\ 8 \overline{)7.5} \\ \underline{7.2} \\ 0.3 \end{array}$$

④ $5.6 \div 6$

$$\begin{array}{r} 0.9 \\ 6 \overline{)5.6} \\ \underline{5.4} \\ 0.2 \end{array}$$

⑤ $1.5 \div 2$

$$\begin{array}{r} 0.7 \\ 2 \overline{)1.5} \\ \underline{1.4} \\ 0.1 \end{array}$$

⑥ $5.2 \div 8$

$$\begin{array}{r} 0.6 \\ 8 \overline{)5.2} \\ \underline{4.8} \\ 0.4 \end{array}$$

⑦ $6.6 \div 9$

$$\begin{array}{r} 0.7 \\ 9 \overline{)6.6} \\ \underline{6.3} \\ 0.3 \end{array}$$

⑧ $4.8 \div 7$

$$\begin{array}{r} 0.6 \\ 7 \overline{)4.8} \\ \underline{4.2} \\ 0.6 \end{array}$$

2 次の筆算をしましょう。商は一の位まで求め、あまりもだしましょう。

(各10点)

⑨ $23.1 \div 6$

$$\begin{array}{r} 3 \\ 6 \overline{)23.1} \\ \underline{18} \\ 5.1 \end{array}$$

⑩ $59.8 \div 18$

$$\begin{array}{r} 3 \\ 18 \overline{)59.8} \\ \underline{54} \\ 5.8 \end{array}$$

