

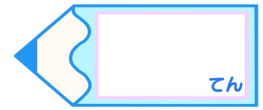


小数のわり算 17

◎ あまりを求める
(商も余りも帯小数)

16

目指せ80点!



名まえ

・ 次の筆算をしましょう。商は小数第一位まで求め、あまりもだしましょう。
(各10点)


① $57.1 \div 43$

② $99.5 \div 25$


③ $3.9 \div 7$

④ $72.9 \div 21$

⑤ $9.4 \div 4$



すらすらぷりんと

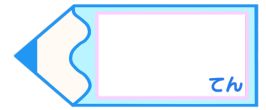


小数のわり算 17

● あまりを求める
(商も余りも帯小数)

16

目指せ80点!



名まえ

・ 次の筆算をしましょう。商は小数第一位まで求め、あまりもだしましょう。
(各10点)

① $57.1 \div 43$

$$\begin{array}{r}
 1.3 \\
 43 \overline{)57.1} \\
 \underline{43} \\
 141 \\
 \underline{129} \\
 12
 \end{array}$$

② $99.5 \div 25$

$$\begin{array}{r}
 3.9 \\
 25 \overline{)99.5} \\
 \underline{75} \\
 245 \\
 \underline{225} \\
 20
 \end{array}$$

③ $3.9 \div 7$

$$\begin{array}{r}
 0.5 \\
 7 \overline{)3.9} \\
 \underline{35} \\
 0.4
 \end{array}$$

④ $72.9 \div 21$

$$\begin{array}{r}
 3.4 \\
 21 \overline{)72.9} \\
 \underline{63} \\
 99 \\
 \underline{84} \\
 15
 \end{array}$$

⑤ $9.4 \div 4$

$$\begin{array}{r}
 2.3 \\
 4 \overline{)9.4} \\
 \underline{8} \\
 14 \\
 \underline{12} \\
 0.2
 \end{array}$$

