




倍の見方3

● もとの長さや重さを求める



めざせ100点!

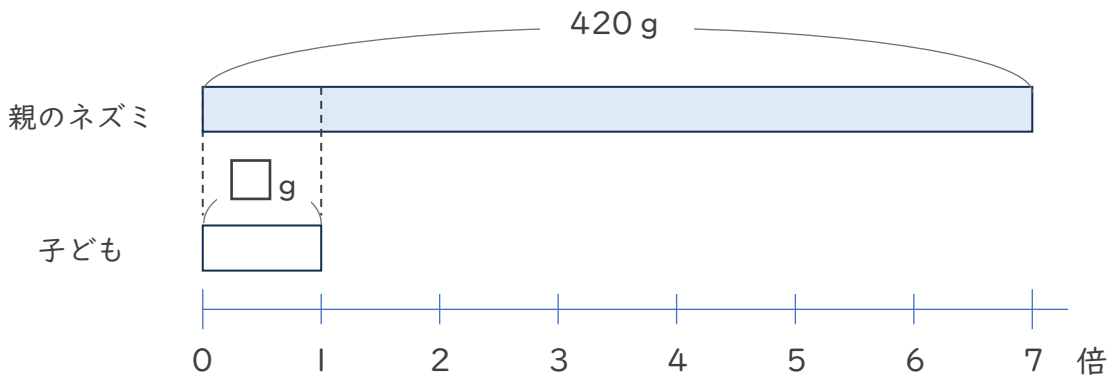


てん

名まえ

・次の問いに答えましょう。(式・答え 各25点)

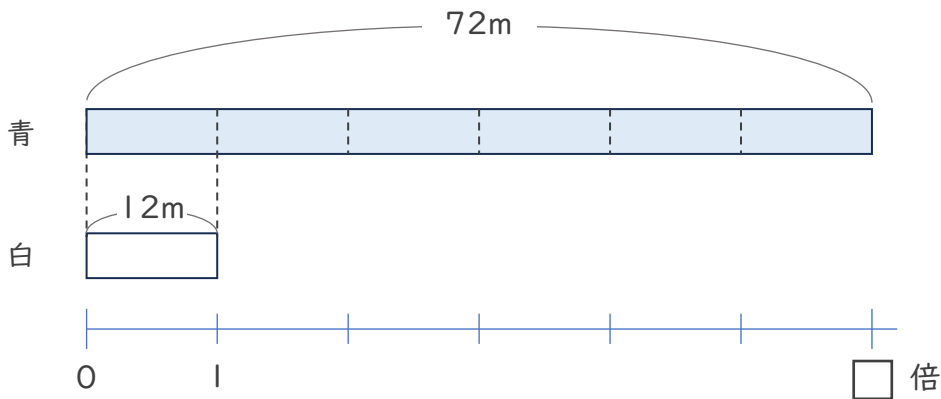
- ① 親のネズミの体重は子どもの体重の7倍で、420gです。子どものネズミの体重は何gですか。



式:

答え ()

- ② 白のリボンの長さは12mで、青のリボンの長さは72mです。青のリボンは白のリボンの何倍の長さですか。



式:

答え ()




倍の見方3

● もとの長さや重さを求める

16

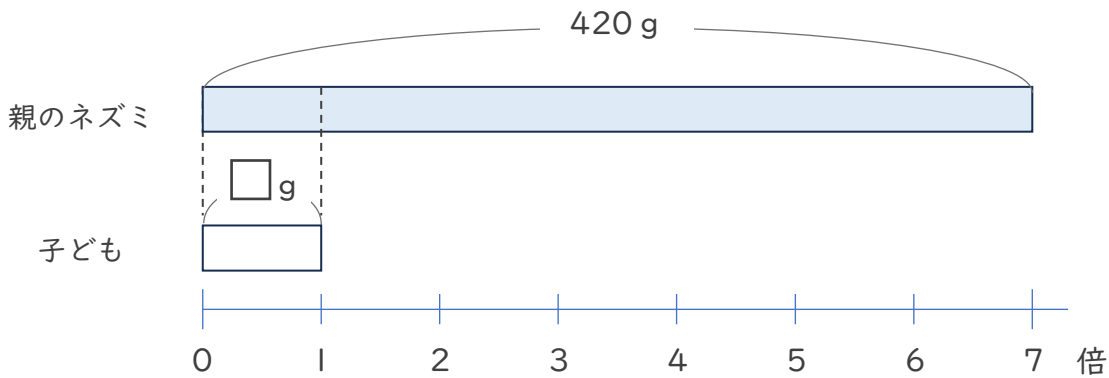
めざせ100点!



名まえ

・ 次の問いに答えましょう。(式・答え 各25点)

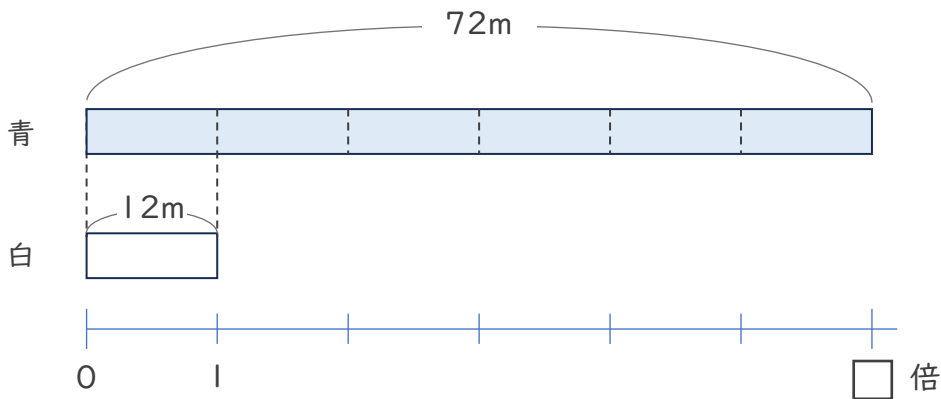
- ① 親のネズミの体重は子どもの体重の7倍で、420gです。子どものネズミの体重は何gですか。



式: $420 \div 7 = 60$

答え (60g)

- ② 白のリボンの長さは12mで、青のリボンの長さは72mです。青のリボンは白のリボンの何倍の長さですか。



式: $72 \div 12 = 6$

答え (6倍)