



小数のわり算21

●わり進み
(帯小数を1桁の整数でわる)

16

目指せ80点!



名まえ

・ 次の計算をわりきれぬまでしましょう。(各20点)


① $26 \div 8$




② $72 \div 16$




③ $5.7 \div 6$



④ $5.4 \div 5$



⑤ $9.4 \div 4$



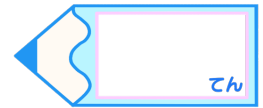


小数のわり算21

わり進み
(帯小数を1桁の整数でわる)

16

目指せ80点!



名まえ

次の計算をわりきれぬまでしましょう。(各20点)

① $26 \div 8$

		3	.	2	5	
8)	2	6	.	0	0
		2	4			
		2	0			
		1	6			
			4	0		
			4	0		
				0		

② $72 \div 16$

				4	.	5
1	6)	7	2	.	0
			6	4		
			8	0		
			8	0		
				0		

③ $5.7 \div 6$

				0	.	9	5
6)	5	.	7	0		
		5	4				
			3	0			
			3	0			
				0			

④ $5.4 \div 5$

		1	.	0	8
5)	5	.	4	0
		5			
			4	0	
			4	0	
				0	

⑤ $9.4 \div 4$

		2	.	3	5
4)	9	.	4	0
		8			
		1	4		
		1	2		
			2	0	
			2	0	
				0	

