



小数のわり算22

●わり進み
(帯小数を2桁の整数でわる)

16

目指せ80点!



名まえ

・ 次の計算をわりきれぬまでしましょう。(各20点)


① $59.4 \div 36$

② $17 \div 4$

③ $90 \div 12$

③ $60.5 \div 22$

④ $17.1 \div 36$



すらすらぷりんと

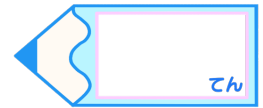


小数のわり算22

わり進み
(帯小数を2桁の整数でわる)

16

目指せ80点!



名まえ

・ 次の計算をわりきれぬまでしましょう。(各20点)

① $59.4 \div 36$

$$\begin{array}{r}
 1.65 \\
 36 \overline{) 59.40} \\
 \underline{36} \\
 234 \\
 \underline{216} \\
 180 \\
 \underline{180} \\
 0
 \end{array}$$

② $17 \div 4$

$$\begin{array}{r}
 4.35 \\
 4 \overline{) 17.40} \\
 \underline{16} \\
 14 \\
 \underline{12} \\
 20 \\
 \underline{20} \\
 0
 \end{array}$$

③ $90 \div 12$



$$\begin{array}{r}
 7.5 \\
 12 \overline{) 90.0} \\
 \underline{84} \\
 60 \\
 \underline{60} \\
 0
 \end{array}$$

③ $60.5 \div 22$

$$\begin{array}{r}
 2.75 \\
 22 \overline{) 60.50} \\
 \underline{44} \\
 165 \\
 \underline{154} \\
 110 \\
 \underline{110} \\
 0
 \end{array}$$

④ $17.1 \div 36$

$$\begin{array}{r}
 0.475 \\
 36 \overline{) 17.100} \\
 \underline{144} \\
 270 \\
 \underline{252} \\
 180 \\
 \underline{180} \\
 0
 \end{array}$$



すらすらぷりん