



小数のわり算20

● わり進み
(整数を2桁の整数でわる)

16

目指せ80点!



名まえ

・ 次の計算をわりきれぬまでしましょう。(各20点)



① $85 \div 34$

② $6 \div 75$

③ $13 \div 5$

④ $7 \div 4$

⑤ $17 \div 4$



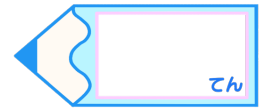


小数のわり算20

●わり進み
(整数を2桁の整数でわる)

16

目指せ80点!



名まえ

・ 次の計算をわりきれぬまでしましょう。(各20点)

① $85 \div 34$

$$\begin{array}{r}
 2.5 \\
 34 \overline{)85.0} \\
 \underline{68} \\
 170 \\
 \underline{170} \\
 0
 \end{array}$$

② $6 \div 75$

$$\begin{array}{r}
 0.08 \\
 75 \overline{)6.00} \\
 \underline{600} \\
 0
 \end{array}$$

③ $13 \div 5$

$$\begin{array}{r}
 2.6 \\
 5 \overline{)13.0} \\
 \underline{10} \\
 30 \\
 \underline{30} \\
 0
 \end{array}$$

④ $7 \div 4$

$$\begin{array}{r}
 1.75 \\
 4 \overline{)7.00} \\
 \underline{4} \\
 30 \\
 \underline{28} \\
 20 \\
 \underline{20} \\
 0
 \end{array}$$

⑤ $17 \div 4$

$$\begin{array}{r}
 4.25 \\
 4 \overline{)17.00} \\
 \underline{16} \\
 10 \\
 \underline{8} \\
 20 \\
 \underline{20} \\
 0
 \end{array}$$

