

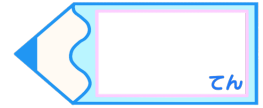


小数のわり算 19

● わり進み
(2桁の整数 ÷ 1桁の整数)

16

目指せ80点!



名まえ

・ 次の計算をわりきれぬまでしましょう。(各20点)


① $29 \div 4$

② $22 \div 8$

③ $28 \div 8$

④ $9 \div 4$

⑤ $25 \div 4$



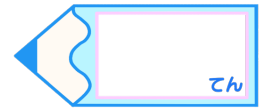


小数のわり算 19

● わり進み
(2桁の整数 ÷ 1桁の整数)

16

目指せ80点!



名まえ

・ 次の計算をわりきれぬまでしましょう。(各20点)

① $29 \div 4$

$$\begin{array}{r}
 7.25 \\
 4 \overline{) 29.00} \\
 \underline{28} \\
 10 \\
 \underline{8} \\
 20 \\
 \underline{20} \\
 0
 \end{array}$$

② $22 \div 8$

$$\begin{array}{r}
 2.75 \\
 8 \overline{) 22.00} \\
 \underline{16} \\
 60 \\
 \underline{56} \\
 40 \\
 \underline{40} \\
 0
 \end{array}$$

③ $28 \div 8$

$$\begin{array}{r}
 3.5 \\
 8 \overline{) 28.0} \\
 \underline{24} \\
 40 \\
 \underline{40} \\
 0
 \end{array}$$

④ $9 \div 4$

$$\begin{array}{r}
 2.25 \\
 4 \overline{) 9.00} \\
 \underline{8} \\
 10 \\
 \underline{8} \\
 20 \\
 \underline{20} \\
 0
 \end{array}$$

⑤ $25 \div 4$

$$\begin{array}{r}
 6.25 \\
 4 \overline{) 25.00} \\
 \underline{24} \\
 10 \\
 \underline{8} \\
 20 \\
 \underline{20} \\
 0
 \end{array}$$

