



小数のわり算 22

●わり進み
(帯小数を2けたの整数でわる)

16


目指せ80点!



名まえ

・ 次の計算をわりきれるまでしましょう。(各20点)


① $59.4 \div 36$




② $17 \div 4$





③ $90 \div 12$



③ $60.5 \div 22$



④ $17.1 \div 36$





小数のわり算 22

◎わり進み
(帯小数を2けたの整数でわる)

16

目指せ80点!



名まえ

・ 次の計算をわりきれぬまでしましょう。(各20点)

① $59.4 \div 36$

			1	6	5	
3	6)	5	9	4	0
			3	6		
			2	3	4	
			2	1	6	
			1	8	0	
			1	8	0	
					0	

② $17 \div 4$

			4	3	5
4)	1	7	4	0
			1	6	
			1	4	
			1	2	
			2	0	
			2	0	
					0

③ $90 \div 12$

			7	5	
1	2)	9	0	0
			8	4	
			6	0	
			6	0	
					0

③ $60.5 \div 22$

			2	7	5	
2	2)	6	0	5	0
			4	4		
			1	6	5	
			1	5	4	
			1	1	0	
			1	1	0	
					0	

④ $17.1 \div 36$

			0	4	7	5	
3	6)	1	7	1	0	0
			1	4	4		
			2	7	0		
			2	5	2		
			1	8	0		
			1	8	0		
					0		

