




# 小数のわり算 20

● わり進み  
(整数を2けたの整数でわる)

16

目指せ80点!



名まえ

・ 次の計算をわりきれるまでしましょう。(各20点)


①  $85 \div 34$



②  $6 \div 75$






③  $13 \div 5$



④  $7 \div 4$



⑤  $17 \div 4$





# 小数のわり算 20

●わり進み  
(整数を2けたの整数でわる)

16

目指せ80点!



名まえ

・ 次の計算をわりきれぬまでしましょう。(各20点)

①  $85 \div 34$

			2.5
34	)	85.0	
		68	
		170	
		170	
		0	

②  $6 \div 75$

			0.08
75	)	6.00	
		600	
		0	

③  $13 \div 5$

			2.6
5	)	13.0	
		10	
		30	
		30	
		0	

④  $7 \div 4$

			1.75
4	)	7.00	
		4	
		30	
		28	
		20	
		20	
		0	

⑤  $17 \div 4$

			4.25
4	)	17.00	
		16	
		10	
		8	
		20	
		20	
		0	

