

垂直, 平行と
四角形 8

マス目に斜めな
正方形をかく

16

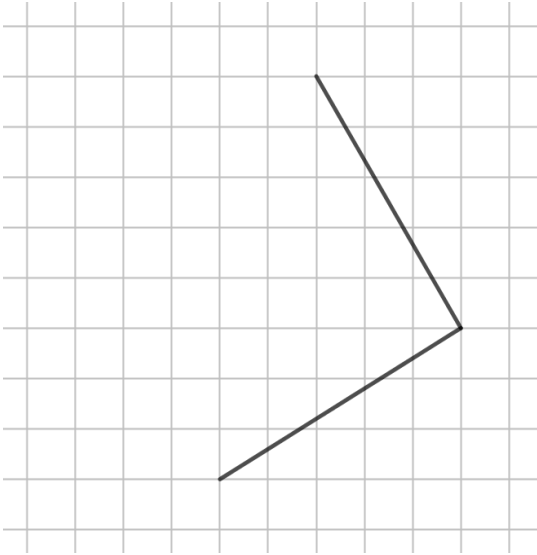
目指せ75点!



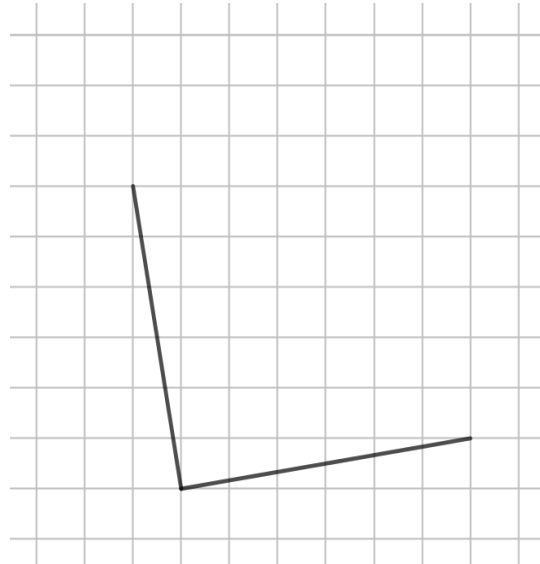
名まえ _____

1 次の図の続きをかいて、正方形を完成させましょう。(各25点)

①



②

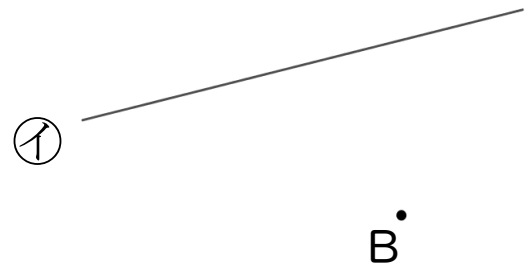



2 2まいの三角じょうぎを使って、次の点を通り、直線に平行な直線をひきましょう。(各25点)

①



②






垂直, 平行と
四角形 8

● マス目に斜めな
正方形をかく

16

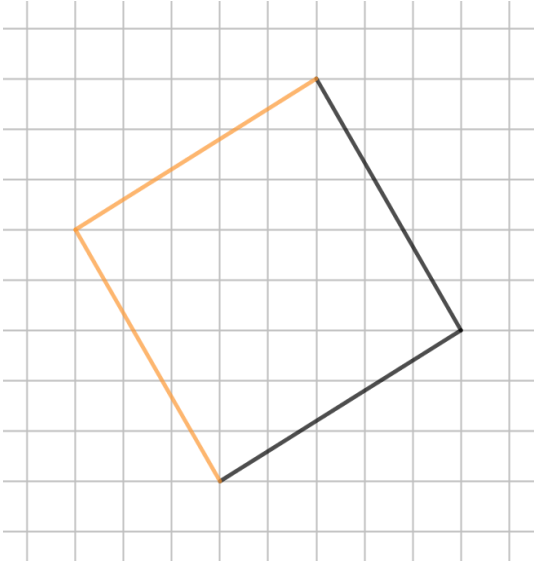
目指せ75点!



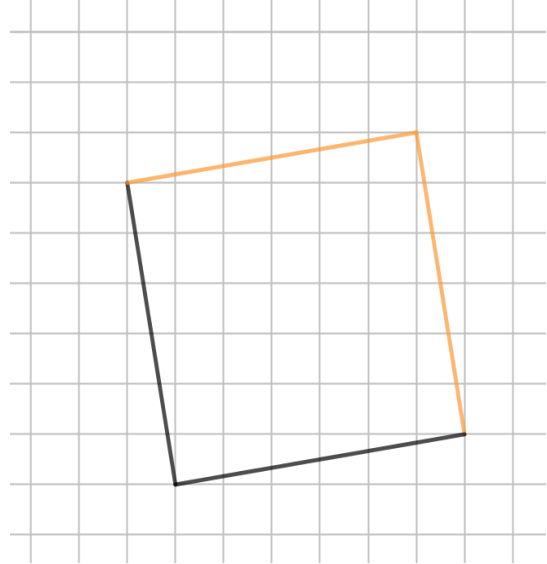
名まえ _____

1 次の図の続きをかいて、正方形を完成させましょう。(各25点)

①

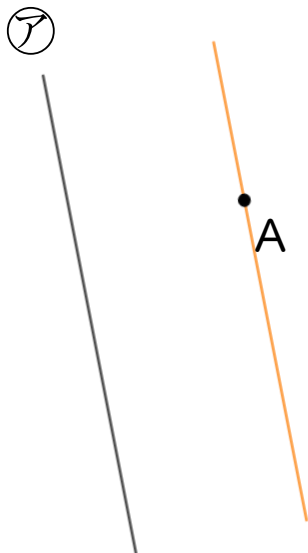


②



2 2まいの三角じょうぎを使って、次の点を通り、直線に平行な直線をひきましょう。(各25点)

①



②

