


小数のわり算4

● 十の位に商がたたない
小数÷整数

16

目指せ80点!



てん

名まえ

・ 次の計算をしなさい。(各10点)

① $9 \overline{) 13.5}$

② $4 \overline{) 37.2}$

③ $6 \overline{) 13.2}$

④ $4 \overline{) 15.2}$

⑤ $26.1 \div 9$



⑥ $16.8 \div 7$

⑦ $34.4 \div 8$

⑧ $52.2 \div 3$

⑨ $65.7 \div 9$

⑩ $96.6 \div 7$






小数のわり算4

● 十の位に商がたたない
小数÷整数

16

目指せ80点!



名まえ _____

・ 次の計算をしなさい。(各10点)

①

$$\begin{array}{r} 1.5 \\ 9 \overline{) 13.5} \\ \underline{9 } \\ 45 \\ \underline{45} \\ 0 \end{array}$$

②

$$\begin{array}{r} 9.3 \\ 4 \overline{) 37.2} \\ \underline{36 } \\ 12 \\ \underline{12} \\ 0 \end{array}$$

③

$$\begin{array}{r} 2.2 \\ 6 \overline{) 13.2} \\ \underline{12 } \\ 12 \\ \underline{12} \\ 0 \end{array}$$

④

$$\begin{array}{r} 3.8 \\ 4 \overline{) 15.2} \\ \underline{12 } \\ 32 \\ \underline{32} \\ 0 \end{array}$$

⑤ $26.1 \div 9$

$$\begin{array}{r} 2.9 \\ 9 \overline{) 26.1} \\ \underline{18 } \\ 81 \\ \underline{81} \\ 0 \end{array}$$

⑥ $16.8 \div 7$

$$\begin{array}{r} 2.4 \\ 7 \overline{) 16.8} \\ \underline{14 } \\ 28 \\ \underline{28} \\ 0 \end{array}$$

⑦ $34.4 \div 8$

$$\begin{array}{r} 4.3 \\ 8 \overline{) 34.4} \\ \underline{32 } \\ 24 \\ \underline{24} \\ 0 \end{array}$$

⑧ $52.2 \div 3$

$$\begin{array}{r} 17.4 \\ 3 \overline{) 52.2} \\ \underline{3 } \\ 22 \\ \underline{21} \\ 12 \\ \underline{12} \\ 0 \end{array}$$

⑨ $65.7 \div 9$

$$\begin{array}{r} 7.3 \\ 9 \overline{) 65.7} \\ \underline{63 } \\ 27 \\ \underline{27} \\ 0 \end{array}$$

⑩ $96.6 \div 7$

$$\begin{array}{r} 13.8 \\ 7 \overline{) 96.6} \\ \underline{7 } \\ 26 \\ \underline{21} \\ 56 \\ \underline{56} \\ 0 \end{array}$$

