



垂直、平行と  
四角形 12

16

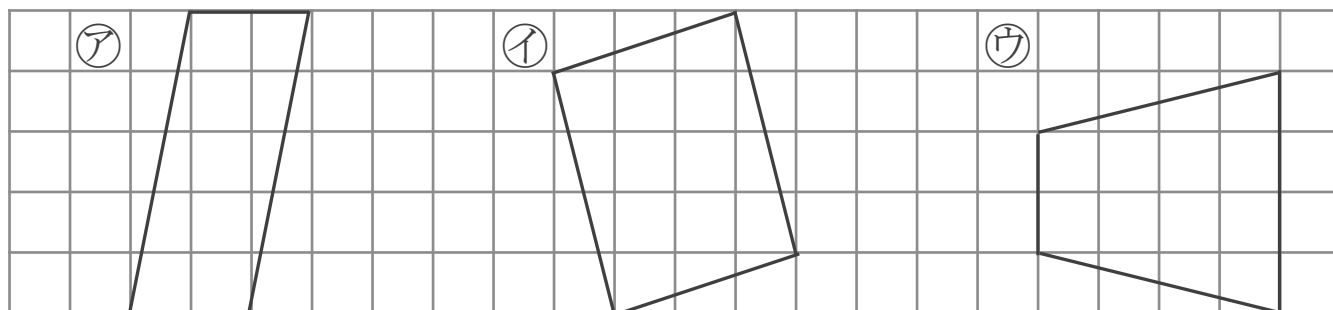
台形と平行四辺形

めざせ100点!



名まえ \_\_\_\_\_

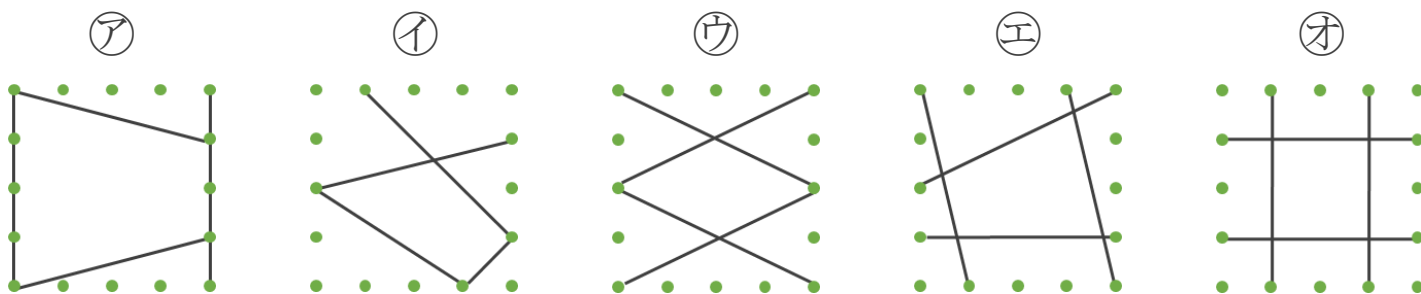
1 次の四角形を、台形と平行四辺形に分けましょう。(40点)



答え: 台形...

平行四辺形...

2 平行な直線の組の数に注目して、次の四角形を3つのなかまに分けましょう。(各20点)



① 平行な直線が1組

答え: \_\_\_\_\_

② 平行な直線が2組

答え: \_\_\_\_\_

③ 平行な直線がない

答え: \_\_\_\_\_



垂直、平行と  
四角形 12

16

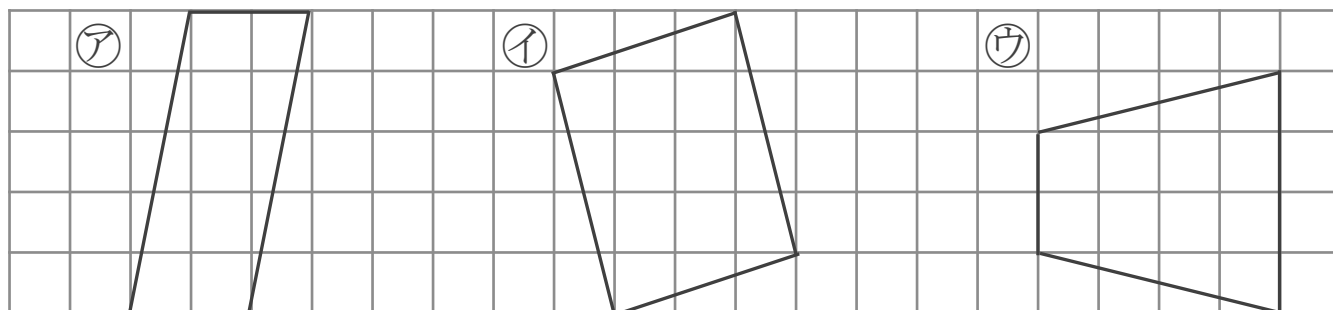
台形と平行四辺形

めざせ100点!



名まえ \_\_\_\_\_

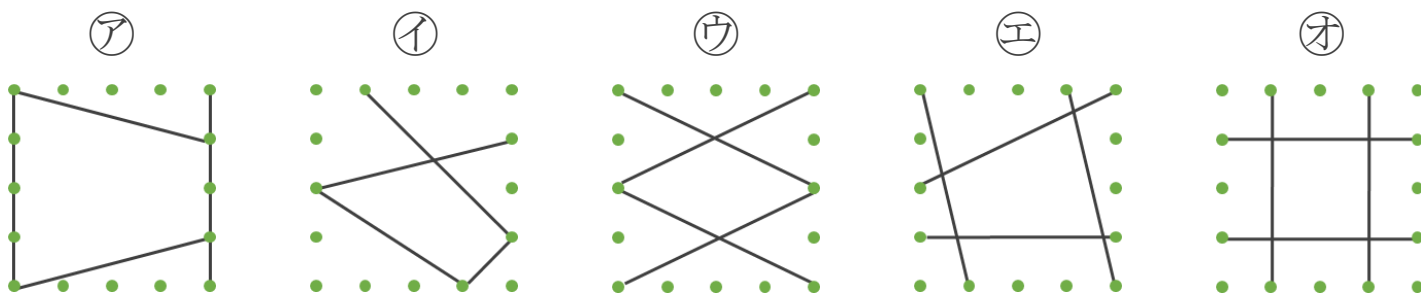
1 次の四角形を、台形と平行四辺形に分けましょう。(40点)



答え: 台形... ウ

平行四辺形... ア, イ

2 平行な直線の組の数に注目して、次の四角形を3つのなかまに分けましょう。(各20点)



① 平行な直線が1組

答え: ア, エ

② 平行な直線が2組

答え: ウ, オ

③ 平行な直線がない

答え: イ