


小数のたし算とひき算 I

◎位の揃った小数のたし算

16

目指せ80点!



名まえ

・ 次の計算をなさい。(各10点)

①

	6	.	0	5
+	4	.	5	6
<hr/>				

②

	5	.	8	3
+	6	.	9	9
<hr/>				

③

	3	.	6	0	2
+	4	.	9	8	7
<hr/>					

④

	7	.	4	2
+	0	.	6	4
<hr/>				

⑤

	1	.	2	2	8
+	6	.	5	1	8
<hr/>					

⑥


	1	.	6	0	9
+	2	.	0	2	8
<hr/>					

⑦ $3.54 + 6.22$

⑧ $4.556 + 2.169$

⑨ $1.394 + 6.114$

⑩ $2.66 + 1.19$




小数のたし算とひき算 I

16

◎位の揃った小数のたし算

目指せ80点!



名まえ

・ 次の計算をなさい。(各10点)

①

	6	.	0	5
+	4	.	5	6
<hr/>				
	1	.	0	6
				1

②

	5	.	8	3
+	6	.	9	9
<hr/>				
	1	.	2	8
				2

③

	3	.	6	0	2
+	4	.	9	8	7
<hr/>					
	8	.	5	8	9

④

	7	.	4	2
+	0	.	6	4
<hr/>				
	8	.	0	6

⑤

	1	.	2	2	8
+	6	.	5	1	8
<hr/>					
	7	.	7	4	6

⑥

	1	.	6	0	9
+	2	.	0	2	8
<hr/>					
	3	.	6	3	7

⑦ 3.54 + 6.22

	3	.	5	4
+	6	.	2	2
<hr/>				
	9	.	7	6

⑧ 4.556 + 2.169

	4	.	5	5	6
+	2	.	1	6	9
<hr/>					
	6	.	7	2	5

⑨ 1.394 + 6.114

	1	.	3	9	4
+	6	.	1	1	4
<hr/>					
	7	.	5	0	8

⑩ 2.66 + 1.19

	2	.	6	6
+	1	.	1	9
<hr/>				
	3	.	8	5

