


# 小数のたし算とひき算3

# 16

◎和の末尾の0の処理

目指せ80点!



名まえ

・ 次の計算をなさい。(各10点)

①

	5	9	8
+	3	0	2
<hr/>			

②

	6	5	1	3
+	3	1	2	7
<hr/>				

③

	3	4		
+	4	2	4	3
<hr/>				

④

	3	2	9
+	0	1	1
<hr/>			

⑤

	4	1	2	8
+		6	1	2
<hr/>				

⑥


	2	5	3
+	8	0	3
<hr/>			

⑦  $6.84 + 0.16$

⑧  $3.53 + 4.37$

⑨  $1.426 + 2.424$

⑩  $2.788 + 0.212$




# 小数のたし算とひき算3

# 16

◎和の末尾の0の処理

目指せ80点!



名まえ

・ 次の計算をなさい。(各10点)

①

	5	9	8
+	3	0	2
<hr/>			
	9	0	0

②

	6	5	1	3
+	3	1	2	7
<hr/>				
	9	6	4	0

③

	3	4		
+	4	2	4	3
<hr/>				
	7	6	4	3

④

	3	2	9
+	0	1	1
<hr/>			
	3	4	0

⑤

	4	1	2	8
+		6	1	2
<hr/>				
	4	7	4	0

⑥

	2	5	3	
+	8	0	3	
<hr/>				
	1	0	5	6

⑦ 6.84 + 0.16

	6	8	4
+	0	1	6
<hr/>			
	7	0	0

⑧ 3.53 + 4.37

	3	5	3
+	4	3	7
<hr/>			
	7	9	0

⑨ 1.426 + 2.424

	1	4	2	6
+	2	4	2	4
<hr/>				
	3	8	5	0

⑩ 2.788 + 0.212

	2	7	8	8
+	0	2	1	2
<hr/>				
	3	0	0	0

