



小数のわり算II

● 商が小数第三位までの真小数

16

目指せ80点!



名まえ

・ 次の計算をしなさい。(各20点)



① $0.291 \div 97$


② $0.392 \div 49$

③ $0.141 \div 3$

④ $0.225 \div 5$

⑤ $0.72 \div 18$



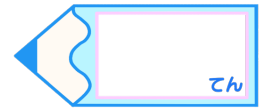


小数のわり算II

● 商が小数第三位までの真小数

16

目指せ80点!



名まえ

・ 次の計算をしなさい。(各20点)

① $0.291 \div 97$

$$\begin{array}{r}
 0.003 \\
 97 \overline{)0.291} \\
 \underline{291} \\
 0
 \end{array}$$

② $0.392 \div 49$

$$\begin{array}{r}
 0.008 \\
 49 \overline{)0.392} \\
 \underline{392} \\
 0
 \end{array}$$

③ $0.141 \div 3$

$$\begin{array}{r}
 0.047 \\
 3 \overline{)0.141} \\
 \underline{12} \\
 21 \\
 \underline{21} \\
 0
 \end{array}$$

④ $0.225 \div 5$

$$\begin{array}{r}
 0.045 \\
 5 \overline{)0.225} \\
 \underline{20} \\
 25 \\
 \underline{25} \\
 0
 \end{array}$$

⑤ $0.72 \div 18$

$$\begin{array}{r}
 0.04 \\
 18 \overline{)0.72} \\
 \underline{72} \\
 0
 \end{array}$$

