




小数のわり算 00

● 商が小数第三位までの真小数

16

目指せ80点!



名まえ _____

・ 次の計算をしなさい。(各20点)

①

9	7)	0	.	2	9	1

②

4	9)	0	.	3	9	2

③



0.141 ÷ 3

④

0.225 ÷ 5

⑤

0.72 ÷ 18





小数のわり算 00

商が小数第三位までの真小数

16

目指せ80点!



名まえ _____

・ 次の計算をしなさい。(各20点)

①

		0	0	0	3		
9	7)	0	.	2	9	1
				2	9	1	
							0

②

		0	0	0	8		
4	9)	0	.	3	9	2
				3	9	2	
							0

③ 0.141 ÷ 3

	0	.	0	4	7	
3)	0	.	1	4	1
			1	2		
				2	1	
				2	1	
						0

④ 0.225 ÷ 5

	0	.	0	4	5	
5)	0	.	2	2	5
			2	0		
				2	5	
				2	5	
						0

⑤ 0.72 ÷ 18

	0	.	0	4		
1	8)	0	.	7	2
			7	2		
						0

