



小数のわり算 10

● 商が小数第二位の真小数

16

目指せ80点!



名まえ

・ 次の計算をしなさい。(各20点)



① $0.84 \div 14$


② $0.27 \div 3$

③ $7.95 \div 15$

④ $9.75 \div 5$

⑤ $0.56 \div 14$



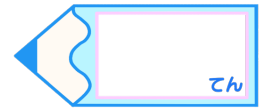


小数のわり算 10

● 商が小数第二位の真小数

16

目指せ80点!



名まえ

・ 次の計算をしなさい。(各20点)

① $0.84 \div 14$

$$\begin{array}{r}
 0.06 \\
 14 \overline{)0.84} \\
 \underline{84} \\
 0
 \end{array}$$

② $0.27 \div 3$

$$\begin{array}{r}
 0.09 \\
 3 \overline{)0.27} \\
 \underline{27} \\
 0
 \end{array}$$

③ $7.95 \div 15$

$$\begin{array}{r}
 0.53 \\
 15 \overline{)7.95} \\
 \underline{75} \\
 45 \\
 \underline{45} \\
 0
 \end{array}$$

④ $9.75 \div 5$

$$\begin{array}{r}
 1.95 \\
 5 \overline{)9.75} \\
 \underline{5} \\
 47 \\
 \underline{45} \\
 25 \\
 \underline{25} \\
 0
 \end{array}$$

⑤ $0.56 \div 14$

$$\begin{array}{r}
 0.04 \\
 14 \overline{)0.56} \\
 \underline{56} \\
 0
 \end{array}$$

