



小数のわり算 10

● 商が小数第二位の真小数

16


目指せ80点!



名まえ

・ 次の計算をしなさい。(各20点)


① $0.84 \div 14$



② $0.27 \div 3$






③ $7.95 \div 15$



④ $9.75 \div 5$



⑤ $0.56 \div 14$





小数のわり算 10

◎ 商が小数第二位の真小数

16

目指せ80点!



名まえ

・ 次の計算をしなさい。(各20点)

① $0.84 \div 14$

		0	.	0	6	
1	4)	0	.	8	4
				8	4	
					0	

② $0.27 \div 3$

		0	.	0	9
3)	0	.	2	7
				2	7
					0

③ $7.95 \div 15$

		0	.	5	3	
1	5)	7	.	9	5
			7	5		
				4	5	
				4	5	
					0	

④ $9.75 \div 5$

		1	.	9	5	
5)	9	.	7	5	
		5				
				4	7	
				4	5	
					2	5
					2	5
						0

⑤ $0.56 \div 14$

		0	.	0	4	
1	4)	0	.	5	6
				5	6	
					0	

