

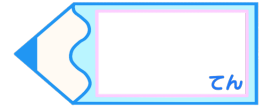


小数のわり算7

● 商が真小数になる
帯小数÷2桁の整数

16

目指せ80点!



名まえ

・ 次の計算をなさい。(各20点)



① $58.5 \div 65$

② $21.5 \div 43$

③ $37.4 \div 17$

④ $44.8 \div 32$

⑤ $41.3 \div 59$



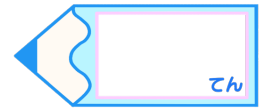


小数のわり算7

● 商が真小数になる
帯小数÷2桁の整数

16

目指せ80点!



名まえ

・ 次の計算をしなさい。(各20点)

① $58.5 \div 65$

$$\begin{array}{r}
 0.9 \\
 65 \overline{) 58.5} \\
 \underline{585} \\
 0
 \end{array}$$

② $21.5 \div 43$

$$\begin{array}{r}
 0.5 \\
 43 \overline{) 21.5} \\
 \underline{215} \\
 0
 \end{array}$$

③ $37.4 \div 17$

$$\begin{array}{r}
 2.2 \\
 17 \overline{) 37.4} \\
 \underline{34} \\
 34 \\
 \underline{34} \\
 0
 \end{array}$$

④ $44.8 \div 32$

$$\begin{array}{r}
 1.4 \\
 32 \overline{) 44.8} \\
 \underline{32} \\
 128 \\
 \underline{128} \\
 0
 \end{array}$$

⑤ $41.3 \div 59$

$$\begin{array}{r}
 0.7 \\
 59 \overline{) 41.3} \\
 \underline{413} \\
 0
 \end{array}$$

