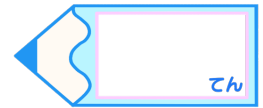


# 小数のわり算23

● 商を概数で求める  
(四捨五入)

# 16

目指せ80点!



名まえ

・ 次のわり算で、商は四捨五入して、上から2けたのがい数で求めましょう。  
(各20点)


①  $170 \div 38$


②  $274 \div 87$


③  $64.7 \div 7$


④  $21.3 \div 8$


⑤  $59.3 \div 9$

すらすらぷりんと

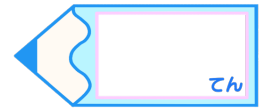


# 小数のわり算23

● 商を概数で求める  
(四捨五入)

# 16

目指せ80点!



名まえ

・ 次のわり算で、商は四捨五入して、上から2けたのがい数で求めましょう。  
(各20点)

①  $170 \div 38$

				4. <del>4</del> <sup>5</sup> <del>7</del>
38	)	170.	00	
		152		
		180		
		152		
		280		
		266		
			14	

②  $274 \div 87$

				3. <del>1</del> <del>4</del>
87	)	274.	00	
		261		
		130		
		87		
		430		
		348		
			82	

③  $64.7 \div 7$


				9. <del>2</del> <del>4</del>
7	)	64.7	0	
		63		
		17		
		14		
		30		
		28		
			2	

④  $21.3 \div 8$

				2. <del>6</del> <del>6</del>
8	)	21.3	0	
		16		
		53		
		48		
		50		
		48		
			2	

⑤  $59.3 \div 9$

				6. <del>5</del> <del>8</del>
9	)	59.3	0	
		54		
		53		
		45		
		80		
		72		
			8	



# すらすらぷりん