



垂直, 平行と 四角形9

● 垂直, 平行な
組み合わせをさがす

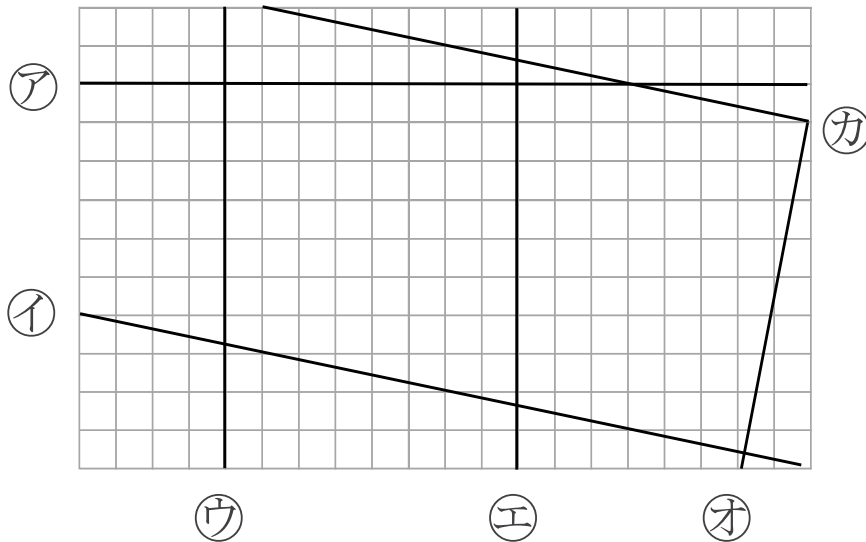
16

目指せ75点!



名まえ _____

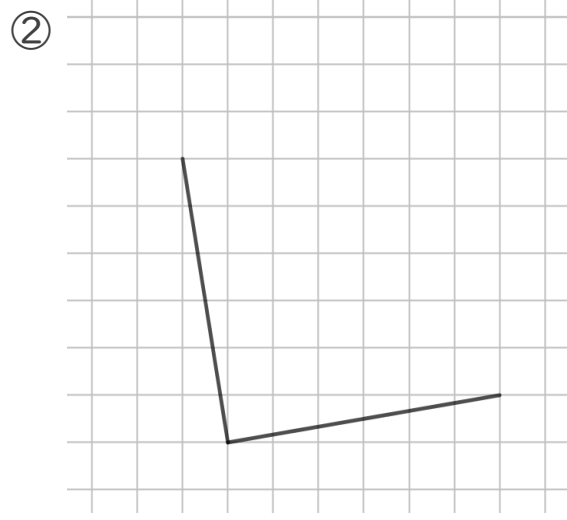
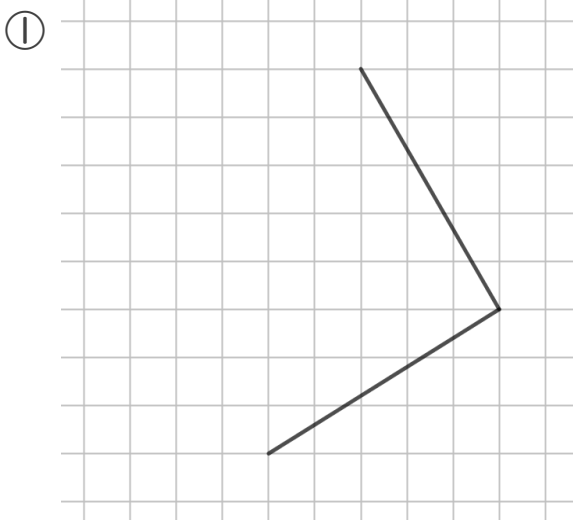
1 次の図で、垂直な直線はどれとどれですか。また、平行な直線は、どれとどれですか。(50点)



答え： 垂直な組み合わせ…

平行な組み合わせ…

2 次の図の続きをかいて、正方形を完成させましょう。(各25点)





垂直, 平行と 四角形9

◎ 垂直, 平行な
組み合わせをさがす

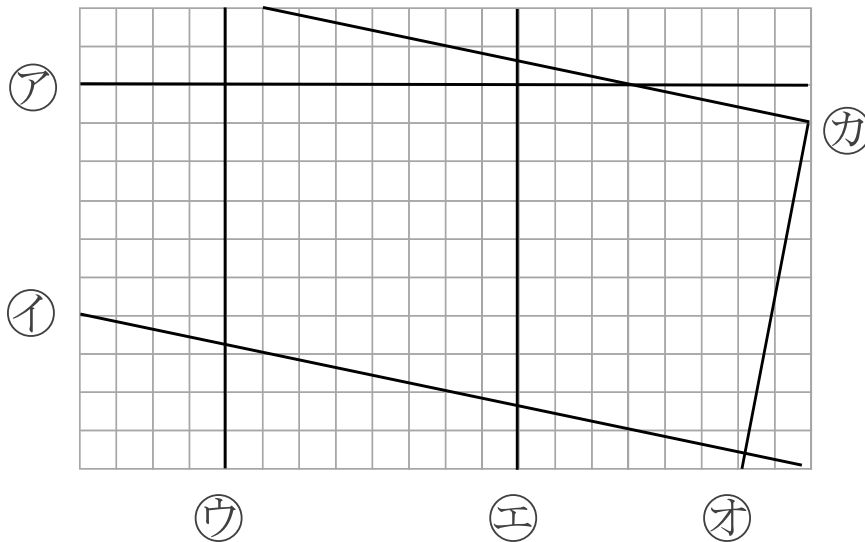
16

目指せ75点!



名まえ _____

1 次の図で、垂直な直線はどれとどれですか。また、平行な直線は、どれとどれですか。(50点)

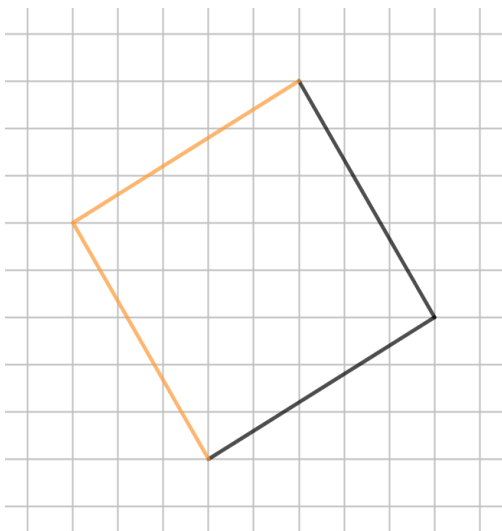


答え： 垂直な組み合わせ… ア と ウ, ア と エ,
イ と オ, オ と カ

平行な組み合わせ… ウ と エ, イ と カ

2 次の図の続きをかいて、正方形を完成させましょう。(各25点)

①



②

