




垂直、平行と 四角形 4

16

● 垂直な直線をひく

目指せ70点!



名まえ _____

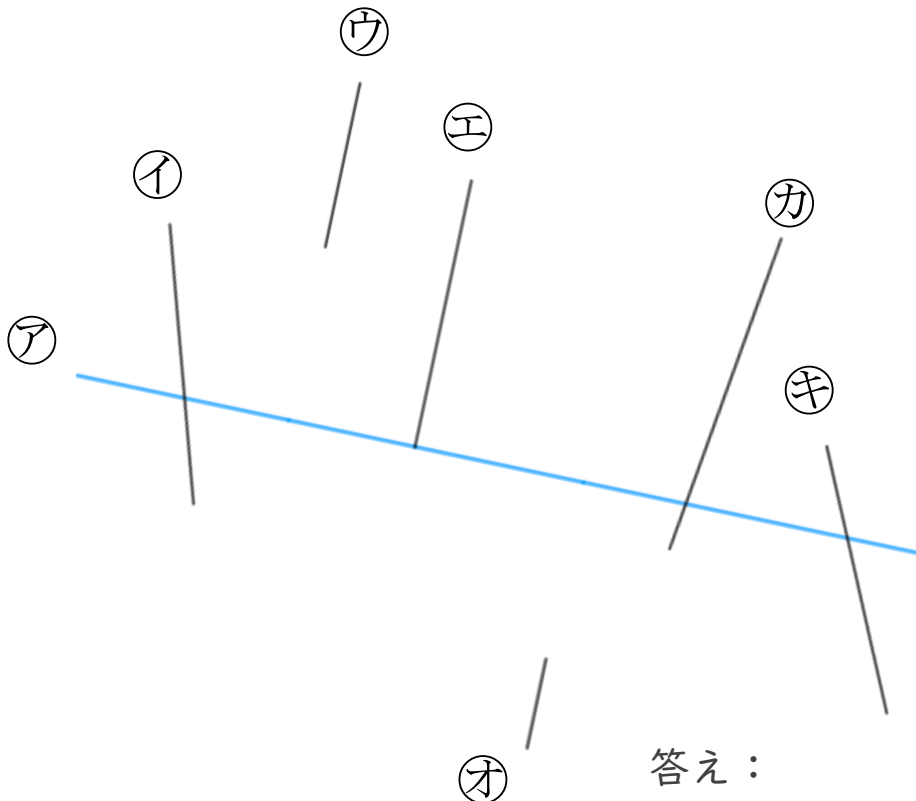
1 2まいの三角じょうぎを使って、次の点を通り、直線に垂直な直線をひきましょう。(各30点)

①

②



2 次の図で、アの直線に垂直な直線はどれですか。(40点)



答え: _____




垂直, 平行と 四角形 4

16

● 垂直な直線をひく

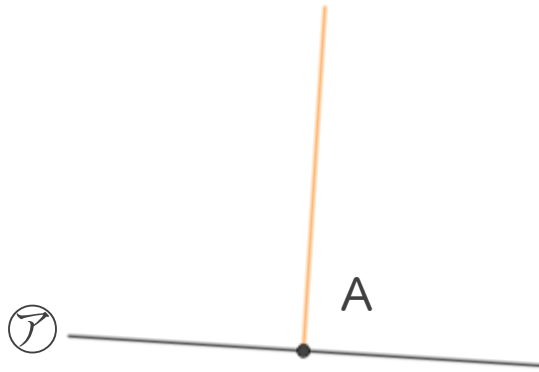
目指せ70点!



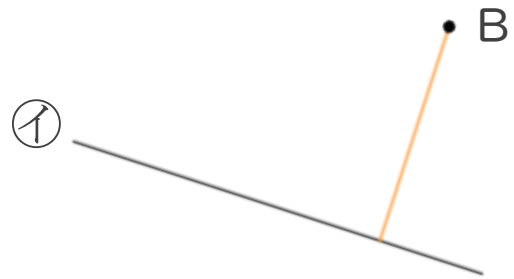
名まえ _____

1 2まいの三角じょうぎを使って、次の点を通り、直線に垂直な直線をひきましょう。(各30点)

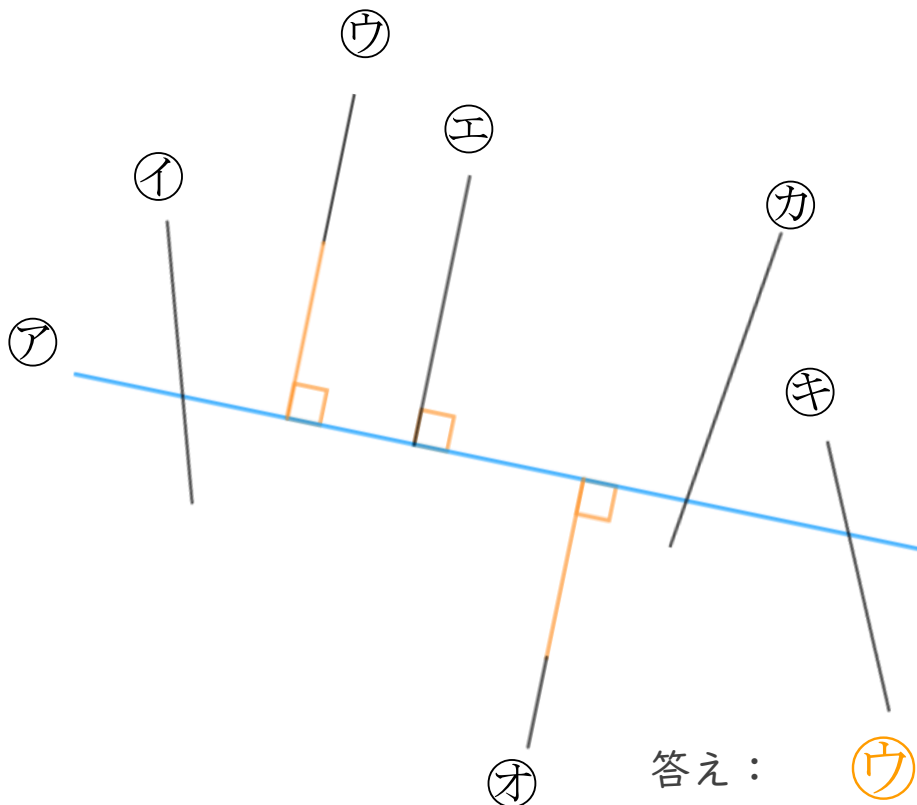
①



②



2 次の図で、アの直線に垂直な直線はどれですか。(40点)



答え： **ウ** , **エ** , **オ**